


۶) شکل‌ها را با کشیدن خط دسته بندی کن و در جاهای خالی عدد مناسب بنویس.




..... دسته ی چهارتایی و
..... تا یکی

۷) جواب عبارت را با کشیدن شکل پیدا کن.

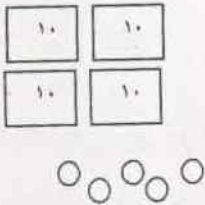
$$7 - 3 =$$

۸) الگو را پیدا کرده و روی جدول نشان بده و رنگ کن.

۱	۲	۳	۴	۵	۶	۷	۸
۹	۱۰	۱۱	۱۲	۱۳	۱۴	۱۵	۱۶



۹) در جای خالی عدد مناسب بنویس.

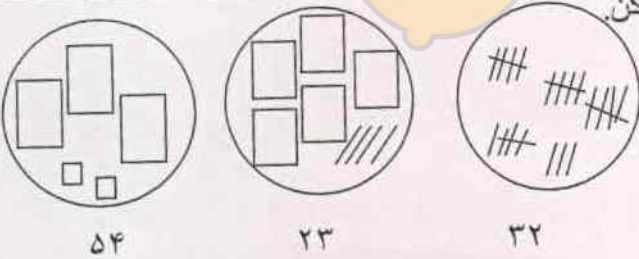


یکی | ده تایی

عدد با رقم

عدد با حروف

۱۰) عددها را با خط کش به شکل مناسب وصل کن.



۱۱) با کمک محور جمع یا تفریق کن.

