

به نام خالق پروانه ها

نام و نام خانوادگی: دبستان پسرانه غیردولتی درخشان آزمون ریاضی پایه سوم /...../.....

- ۱- در جای خالی کلمات مناسب بنویسید .
- مثلثی که همه ی ضلع های آن هم اندازه باشند ، مثلث نام دارد .
 - باز شده ی بدنه ی استوانه به شکل است .
 - حاصل ضرب هر عدد در صفر ، برابر است با
 - بهترین وسیله برای کشیدن گوشه ی راست است .

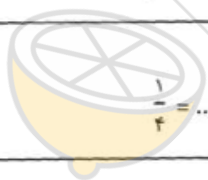
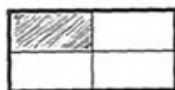
۲- پاسخ صحیح را با علامت × مشخص کنید .

- یکان هزار عدد ۸۵۰۲ کدام رقم است ؟
- الف) ۲ ب) ۰ ج) ۵ د) ۸

- محیط یک مربع ۴۰ سانتی متر است . اندازه ی هر ضلع آن چند سانتی متر است ؟

- الف) ۱۰ ب) ۱۰۰ ج) ۴۰۰ د) ۲۰۰

- در کدام شکل خط تقارن درست رسم شده است ؟



$\frac{1}{4} = \dots\dots\dots$

۳- برای شکل زیر یک تساوی کسر بنویسید .

۴- در جاهای خالی علامت < = > بگذارید .

- ۷۰ میلی متر ۷ سانتی متر ، $\frac{1}{4}$ $\frac{1}{2}$ ، 9×3 3×9
- $4 \times 5 \times 10$ ۲۰۰ ، ۲ واحد $\frac{1}{10}$ واحد ۲ واحد $\frac{3}{10}$ واحد ، 16×1 16×10

۵- مساحت یک مستطیل ۳۲ سانتی متر مربع است . اگر یک ضلع آن ۸ باشد .

اندازه ی ضلع دیگر آن چقدر است ؟

عددهای داده شده را روی محور نشان دهید .

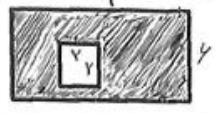


$\frac{2}{3}$ واحد بعد از عدد ۳



$\frac{1}{4}$ واحد مانده به ۴

۷- مساحت شکل رنگی را حساب کنید .



۸- در یک کارخانه در هر ساعت ۱۴۹۰ بسته دستمال کاغذی تولید می شود .

در این کارخانه در ۷ ساعت چند بسته تولید می شود ؟

امکان ندارد	احتمال دارد	حتما اتفاق می افتد

۹- برای جمله های نوشته شده یکی از حالت ها را انتخاب کنید .

بعد از زمستان فصل پاییز بیاید .

یک نوزاد در شب دنیا بیاید .

اگر انسان نیکوکاری باشیم ، پاداش نیکویی می گیریم .

۱۰- محمد ۳۷ کیلوگرم پرتقال را در ۵ جعبه می ریزد .

در هر جعبه چند کیلوگرم پرتقال جا می گیرد و چقدر باقی می ماند ؟



۱۱- نام شکل های زیر را بنویسید .

۱۲- محمد کتابی دارد که ۱۲۰۶ صفحه دارد . او در هفته ی اول ۳۵۰ صفحه و در هفته ی دوم ۲۱۹ صفحه می خواند .

او در این دو هفته چند صفحه خوانده است ؟

چند صفحه دیگر از کتاب او باقی مانده است ؟

$$\begin{array}{r} 5793 \\ - \\ \hline 2161 \end{array}$$

$$\begin{array}{r} 3405 \\ + \\ \hline 2571 \end{array}$$

۱۳- جمع و تفریق زیر را به صورت گسترده انجام بده .