

۱- کدام کسر از بقیه کوچکتر است ؟

(۱)

۲- کسر مربوط به شکل زیر کدام است ؟

(۱)

۳- کدام گزینه درست است ؟

(۱) نصف هر چیز از ربع آن کمتر است

(۳) کسر را نیم می گوئیم

(۲) نصف هر چیزی بیشتر از ربع آن است .

(۴) کسر را ربع می گوئیم .

۴- ۲۷ سانتی متر برابر است با سانتی متر .

۱۷۲ (۱)

۱۲۷ (۲)

۲۱۷ (۳)

۱۷۲ (۴)

۵- ساعت ۱۲ و ربع است . چه کسری از یک ساعت به ساعت ۱ مانده است ؟

(۱)

۶- جای سوزن پرگار نشان دهنده ی دایره است .

(۱) شعاع

(۲) قطر

(۳) مرکز

(۴) زاویه

۷- کدام کسر مساوی است .

(۱)

۶- عدد های داده شده را روی محور نشان دهید .

واحد بعد از عدد ۳

واحد مانده به عدد ۲


۷- امیر حسین نصف زمینش را گندم کاشته است و نیمی دیگر را به سه قسمت مساوی تقسیم کرد و در دو قسمت لویا کاشته است .

الف) چه کسری از زمینش را گندم کاشته است ؟

ب) چه کسری از زمینش را لویا کاشته است ؟

۸- با رقم های ۲ و ۷ و ۶ بزرگ ترین و کوچک ترین عدد چهار رقمی را بنویسید . و اختلاف آن را بدست آورید .

۹- چه کسری از شکل مقابل رنگ شده است ؟



۱۰- در یک سبد بزرگ ۱۱ سیب داریم که یگانه ۵ تا از سیب ها را خورد چه کسری از سیب ها را یگانه خورده است؟.....

و چه کسری باقی مانده است؟



۱۱- در یک جعبه ۷۰۰۰ تا مداد وجود دارد. اگر ۴ بسته ی صد تایی از آن برداریم چند خواهیم داشت؟

۱۲- کسر های زیر را مقایسه کنید.

را با رسم شکل نشان دهید.

۱۳- تساوی

۱۴- چه کسری از شکل های زیر رنگ شده است؟



۱۵- اعضای خانواده ای درآمد خود را کرایه منزل می دهند و آن را خرج غذا می کنند. این خانواده برای کدام مورد بیشتر

پول خرج می کنند؟

۱۶- در شکل رو به رو چند زاویه راست دیده می شود؟



۱۷- برای شکل زیر سه کسر مساوی بنویسید.



**موفق باشید عابدی -

شیرمحمدی **