


۷- جاهای خالی را با کلمات مناسب کامل کنید.

الف - هر مثلث که سه ضلع هم اندازه داشته باشد مثلث مساوی الساقین نام دارد.

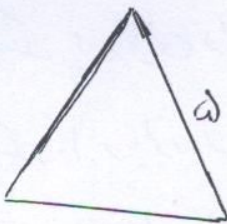

ب - هر مثلث که دو ضلع هم اندازه داشته باشد مثلث مساوی الضلع نام دارد.

۸ مساحت مربعی را که طول یک ضلع آن ۳ سانتی متر است را حساب کنید


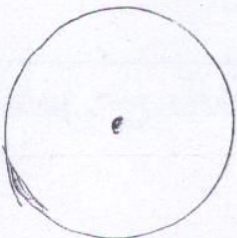

۹ مساحت مستطیلی را که طول آن ۳ و عرض آن ۲ سانتی متر است را حساب کنید



۱۰ محیط شکل های زیر را بدست آورید.



۱۱ قطر شکل ها را رسم کنید.



آزمون درس ریاضی کلاس سوم دبستان شهید عطفی - صفحه ۱۱۹-۸۰  
سال تحصیلی ۹۲/۹۳

۱- حسین ۲۵ عکس گل دارد. برادرش ۱۰ گل از او کمتر دارد این دو برادر روی هم چند عکس گل دارند ؟

$$90 + 37 \bigcirc 127$$

$$4970 \bigcirc 4790 \text{ بگذارید } < = >$$

$$1100 + 200 \bigcirc 1400 - 300$$

$$850 - 150 \bigcirc 610 + 50$$

۳- حاصل جمع و تفریق های زیر را به دست آورید.

$\begin{array}{r} 7438 \\ - 4529 \\ \hline \end{array}$	$\begin{array}{r} 9453 \\ - 8260 \\ \hline \end{array}$	$\begin{array}{r} 5435 \\ + 1876 \\ \hline \end{array}$	$\begin{array}{r} 4200 \\ + 3070 \\ \hline \end{array}$
---	---	---	---

۴- محمود ۴۴۴۷ ریال در قفسه خود پول داشت او ۲۳۲۵ ریال از پول هایش را خرج کرد حالا چقدر پول دارد ؟



چند سکه ۱ ریالی دارد ؟ \_\_\_\_\_

چند سکه ۱۰ ریالی دارد ؟ \_\_\_\_\_

چند سکه ۱۰۰ ریالی دارد ؟ \_\_\_\_\_

چند سکه ۱۰۰۰ ریالی دارد ؟ \_\_\_\_\_

۵- با رقم های ۷ و ۴ و ۲ و ۱ بزرگترین و کوچکترین عدد ۴ رقمی را بنویسید .

ب =  
ک =

۶- حاصل جمع و تفریق زیر را بنویسید .

$$7400 + 900 =$$

$$4000 - 800 =$$