




 <p>..... دسته ی تایی</p>	<p>با توجه به شکل کامل کنید.</p>  <p>..... دسته ی تایی می شود</p> <p>..... دسته ی تایی می شود</p>	<p>۱</p>
<p>دور اعداد زوج خط بکشید.</p> <p>۵۶۲ - ۲۰۳ - ۱۷۶ - ۲۰۰ - ۴۶۱ - ۶۰۹ - ۴۱۱ - ۳۷۵ - ۹۷۸</p>		<p>۲</p>
<p>۷ قسمت از ۱۴ قسمت شکل های زیر را رنگی کنید</p> 		<p>۳</p>
<p>در یک بسته ۲ دایره و ۱ مربع و ۴ مستطیل است. احتمال برداشتن شکل از همه ی شکل ها بیشتر است. احتمال برداشتن شکل از همه کمتر است.</p>		<p>۴</p>
<p>با استفاده از روش فرایندی</p> $\begin{array}{r} ۳۶۳ \\ + \\ \hline ۵۱۴ \end{array}$ $\begin{array}{r} ۹۸۵ \\ - \\ \hline ۶۴۳ \end{array}$	<p>با استفاده از روش تکنیکی</p> $\begin{array}{r} ۵۸۷ \\ + \\ \hline ۲۹۶ \end{array}$ $\begin{array}{r} ۷۴۱ \\ - \\ \hline ۳۴۸ \end{array}$ 	<p>۵</p>
<p>علی ۸۰۰ ریال پول داشت. او یک مداد به قیمت ۱۸۰ ریال و یک دفتر به قیمت ۲۴۵ ریال خرید. علی چند ریال از پول هایش را خرج کرده است؟</p>		<p>۶</p>

<p>ابتدا جمع و تفریق ها را انجام دهید و حاصل را کنار هر کدام بنویسید، سپس جواب ها را مقایسه کنید.</p> <p>..... ■ ۷۰۰ - ۲۰۰ ○ ۹۰۰ - ۴۰۰ ■ = ۱۰ + ۱۰ + ۱۰۰ + ۱۰۰ ○ ۸ + ۱۰ + ۲۰۰ = ۷</p>	۷
<p>نوشته ها را بخوان و کامل کن</p> <p>۴ سانتی متر و ۶ میلی متر یعنی میلی متر</p> <p>۱۲۹ میلی متر یعنی سانتی متر و میلی متر</p> <p>۱۶ میلی متر یعنی سانتی متر و میلی متر</p> <p>۳ سانتی متر یعنی میلی متر</p>	۸
<p>با توجه به شکل جملات را کامل کنید</p> <div style="display: flex; justify-content: space-around; align-items: center;"> <div style="text-align: center;">  <p>..... قسمت از قسمت مساوی رنگ شده است .</p> </div> <div style="text-align: center;">  <p>..... قسمت از قسمت مساوی رنگ شده است .</p> </div> </div>	۹
<p>اندازه ی فلش و است .</p> 	۱۰
<p>طول شانه بین چینه است. یعنی از چینه بیشتر و از کمتر است.</p> 	۱۱
<p>باز خورد معلم:</p> <p>خیلی خوب ○ خوب ○ قابل قبول ○ نیاز به تلاش بیشتر ○</p> <p>موفق باشید بچه های عزیز</p>	