

خانم عابدی

آزمون ریاضی

دوم دبستان

نوبت دوم خرداد



شرح سوال

جاهای خالی را کامل کن .

۸۲

یکان دهگان

۵۹

یکان دهگان

حاصل جمع های زیر را بدست بیاور .

$5 + 10 + 30 + 5 + 5 = \dots\dots\dots$

$20 + 15 + 30 + 5 + 15 = \dots\dots\dots$

در جای خالی عدد مناسب بنویس .

الف) ۵۲ به چه عددی نزدیک تر است ؟ ۴۰ یا ۵۰ ؟

ب) ۷۹ به چه عددی نزدیک تر است ؟ ۷۰ یا ۸۰ ؟

ساعت چند است ؟ بنویس .



ساعت و دقیقه

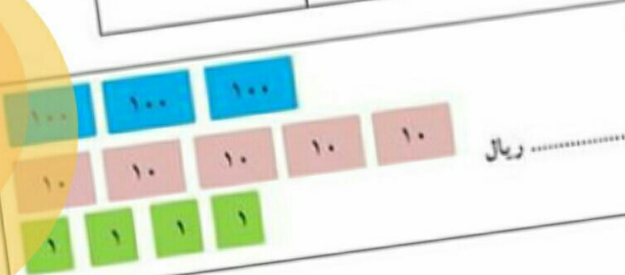


ساعت و دقیقه

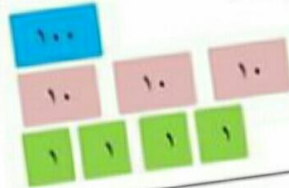
اشکال زیر را رسم کن و تعداد ضلع ها و گوشه های هر یک را بنویس

دایره	مثلث	مربع	مستطیل	رسم شکل
				تعداد ضلع
				تعداد گوشه

کیسه ها را بشمار و بنویس چند ریال است .



ریال



ریال

اعداد زیر را به عدد و حروف بنویس .



پانصد و هفتاد

ششصد و نود و یک

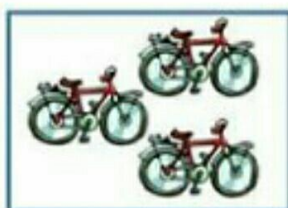
۶۵۲

۹۲۰

تعداد هر قسمت را با کامل کردن جاهای خالی مشخص کن .



..... تا تایی می شود .



..... تا تایی می شود .




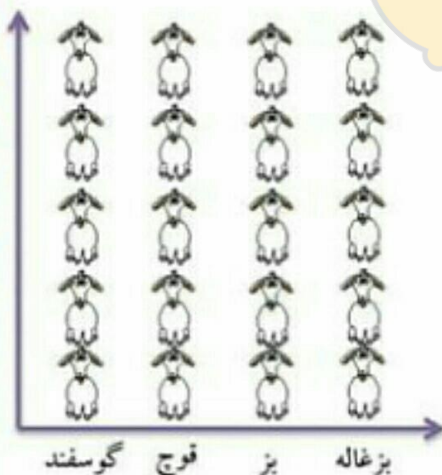
..... تا تایی می شود .




..... تا تایی می شود .



آمار حیوانات موجود در یک مزرعه در جدول زیر آمده است . ابتدا تعداد تقریبی حیوانات را به دست آورده و جدول را کامل کن .
اگر هر ۱۰ حیوان را با  نشان دهیم . نمودار زیر را کامل کن . (رنگ بزن)



نام حیوان	گوسفند	قوچ	بز	بزغاله
تعداد حیوان	۴۶	۲۱	۳۸	۱۷
تعداد تقریبی				

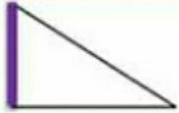


lomaha

در شمارش ۸ تا ۸ تا ، عدد بعد از ۲۴ چه عددی است ؟

- الف (۱۶) ب (۳۲) ج (۲۸) د (۴۰)

در شکل رو به رو خطی که پر رنگ شده است چه نام دارد ؟



- الف (ضلع) ب (گوشه) ج (تقارن) د (نقطه)

در یک کیسه ۸ مهره ی آبی و ۵ مهره ی قرمز انداخته ایم . اگر بدون این که به داخل کیسه نگاه کنیم یک مهره بیرون بیاوریم احتمال این که آن مهره آبی باشد بیشتر است یا قرمز ؟ چرا ؟

پارسا ربع ساعت صبحانه خورد و بعد از آن ۵ دقیقه مسواک زد . این دو کار او چند دقیقه طول کشیده است ؟

- الف (۱۵ دقیقه) ب (۲۵ دقیقه) ج (۲۰ دقیقه) د (۳۰ دقیقه)

بزرگترین عدد سه رقمی که یکان آن ۷ باشد . کدام عدد است ؟

- الف (۹۷۸) ب (۹۹۷) ج (۷۸۹) د (۸۹۷)

عدد ۷۸ تقریباً به کدام عدد نزدیک تر است ؟

- الف (۷۵) ب (۸۰) ج (۹۰) د (۷۰)

جمع و تفریق های زیر را به صورت کوتاه و گسترده پاسخ انجام بده .

گسترده (فرایندی)

$$\begin{array}{r} 154 \\ + 599 \\ \hline \end{array}$$

$$\begin{array}{r} 666 \\ - 578 \\ \hline \end{array}$$

کوتاه (تکنیکی)

$$\begin{array}{r} 466 \\ + 239 \\ \hline \end{array}$$

$$\begin{array}{r} 814 \\ - 323 \\ \hline \end{array}$$

@kelasedovomiha

کامل کن . ۳ سانتی متر و ۶ میلی متر برابر است با میلی متر .

هر کدام از اعداد زیر را به خانه ی مربوط به خود وصل کن .



۴۱

۳۴۵

۱۳۶

۹۲

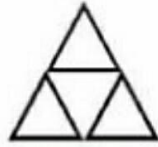
۱۸

۶۷





کدام شکل ها به قسم های مساوی تقسیم شده است ؟ علامت \times بگذار .



ص	د	ی
---	---	---

عددی سه رقمی بنویس که $\underline{۷}$ صدتایی و $\underline{۸}$ ده تایی داشته باشد . در جدول قرار بده

بارقم : باحروف :

عدد را در مربع قرار بده ، ده تاده تا بشمار و جاهای خالی را پر کن .



با توجه به شکل رو به رو به سوالات زیر پاسخ بده .

شکل به قسمت مساوی تقسیم شده است .

..... قسمت از قسمت مساوی این شکل سیاه است .

..... قسمت از قسمت مساوی این شکل سفید است .



مسئله : کتاب داستان آروین $\underline{۲۳۵}$ صفحه دارد . او $\underline{۱۸۵}$ صفحه از کتاب داستانش را خوانده است . آروین چند صفحه از کتاب داستانش را نخوانده است ؟

قدّ دانیال $\underline{۱۲۹}$ سانتی متر و قدّ محمد $\underline{۱۳۱}$ سانتی متر است . قدّ هر دو نفر چند سانتی متر است ؟

@kelasedovomiha