

۱- برای تفریق روبرو یک مسئله بنویس و سپس تفریق را به روش تکنیکی پاسخ بده.

$$\begin{array}{r} 245 \\ - 73 \\ \hline \end{array}$$

۲- برای هر عبارت شکل بکش و به مقدار خواسته شده رنگ بزن.

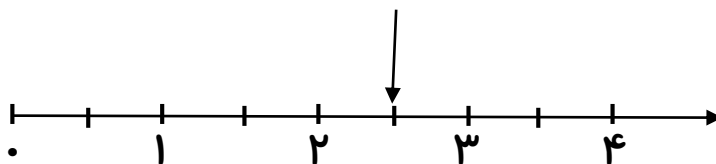
الف) ۲ قسمت از ۵ قسمت مساوی دایره

ب) ۱ قسمت از ۴ قسمت مساوی مثلث



۳- با توجه به فلش مشخص شده روی محور جاهای خالی را کامل کن.

نقطه ی مشخص شده واحد و قسمت از قسمت مساوی است.





۴- در یک کیسه ۱۲ مهره وجود دارد. ۴ مهره قرمز، ۶ مهره آبی و بقیه مهره ها زرد هستند.

الف) تعداد مهره های زرد چند تا است؟


ب) احتمال برداشتن کدام مهره از این کیسه بیشتر است؟

ج) مهره از مهره، قرمز است.

۵- با توجه به شکل جاهای خالی را کامل کن.



..... دسته ی تایی



..... دسته ی تایی

