


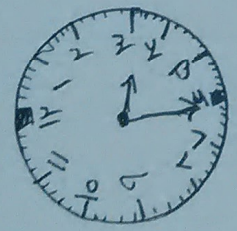
۱- حاصل عبارات را روی محور نشان بده.



$$5 + 4 - 2 = \underline{\quad}$$



$$70 - 20 = \underline{\quad}$$



کاشکیه با نده به ۱۰

یک ربع بعد از ۴


صورت چوبانی و اشکال می دهد

۲- حاصل جمع و تفریق ها را با روش گسترده بنویس.

$$\begin{array}{r} 48 \\ - 25 \\ \hline \end{array}$$

$$\begin{array}{r} 12 \\ + 28 \\ \hline \end{array}$$

$$\begin{array}{r} 75 \\ - 31 \\ \hline \end{array}$$



۳- دو شکل زیر چه تفاوت و شباهت هایی دارند؟

تفاوت:

شباهت:

۱- ۳- ۵- ۷-

۱- اکورا را بنویس.

خط تفاهت را با شکل های زیر را بکش.

