
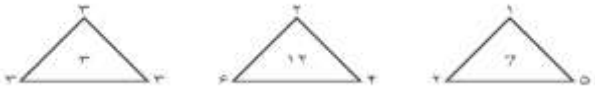
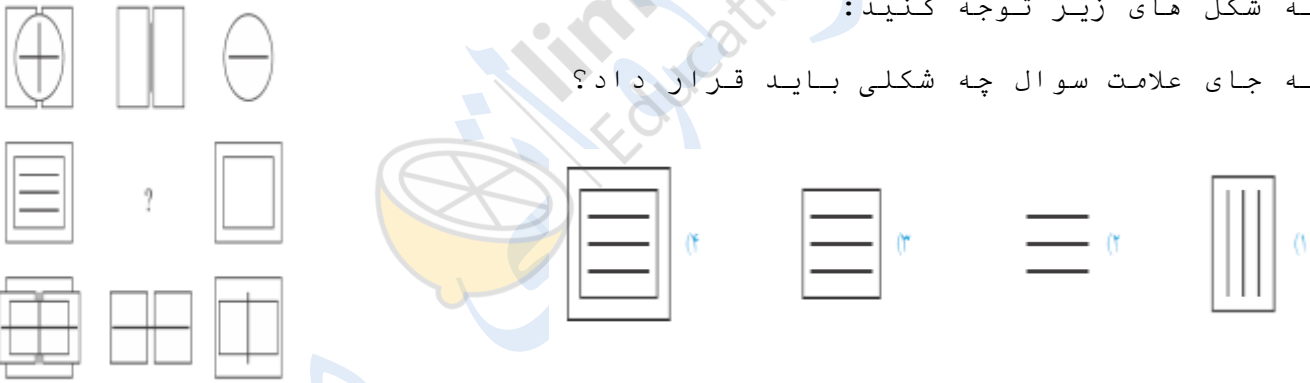
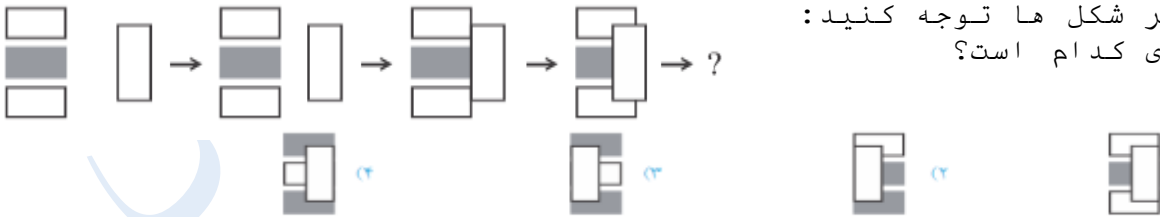
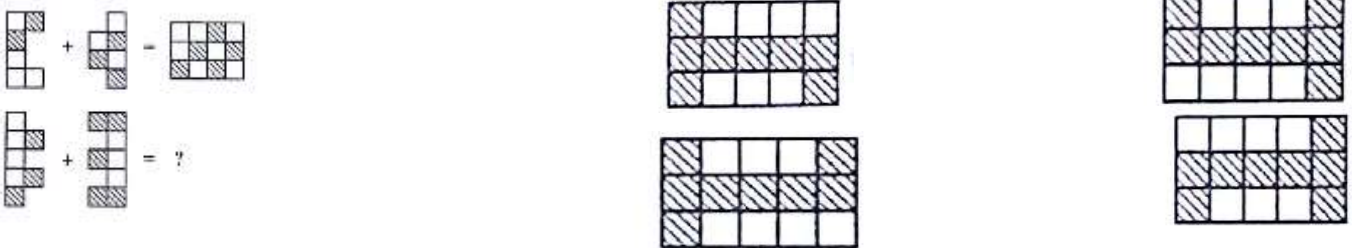

















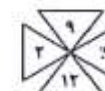

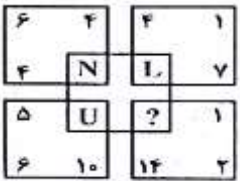


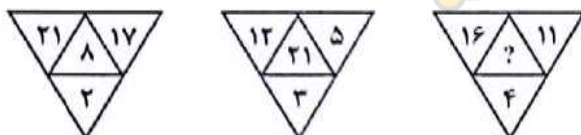


نام و نام خانوادگی :	
۱	واژه مناسب برای تکمیل کردن سری زیر کدام است؟ فرستادن - آمدن - ناراحت کردن - ؟ (۱) مداد (۲) همیشه (۳) بستن (۴) پسر
۲	کدام عدد به مجموعه مقابل تعلق ندارد؟ ۱۶ (۱) ۱۲ (۲) ۱۱ (۳) ۱۴ (۴) ۲۰ ۱۶ (۱) ۱۲ (۲) ۱۴ (۳) ۲۰ (۴)
۳	کدام عدد به مجموعه مقابل تعلق ندارد؟ ۰/۶ (۱) ۰/۵۵ (۲) ۰/۵۵ (۳) ۰/۵۵ (۴) ۰/۶ (۱) ۰/۵۵ (۲) ۰/۵۵ (۳) ۰/۵۵ (۴)
۴	شکل کدام گزینه با بقیه متفاوت است؟ 
۵	کدام کلمه با بقیه کلمات مطابقت ندارد؟ (۱) خرامان (۲) آسمان (۳) شتابان (۴) هراسان
۶	به جای علامت سوال چه عددی باید گذاشت؟ ۸ (۱) ۹ (۲) ۱۰ (۳) ۱۱ (۴) ۸ (۱) ۹ (۲) ۱۰ (۳) ۱۱ (۴)
۷	سه برابر خمس ۱۰۰ کدام است؟ (۱) ۳۰۰ (۲) ۶۰ (۳) ۷۵ (۴) ۱۵۰
۸	به جای علامت سوال چه عددی باید قرار داد؟ 
۹	به شکل های زیر توجه کنید: به جای علامت سوال چه شکلی باید قرار داد؟ 
۱۰	به تغییر شکل ها توجه کنید: شکل بعدی کدام است؟ 
۱۱	با جابه جایی حروف کدام دسته از حروف زیر، نمی توان نام کشوری را ساخت؟ (۱) ن، چ، ی (۲) ا، ن، د، ک، ا، ا (۳) ن، د، ه، ل (۴) ه، ن، ر، ت، ا
۱۲	

		۱۳
		۱۴
		۱۵
		۱۶
		۱۷
		۱۸
		۱۹
		۲۰
		۲۱
		۲۲ کدام گزینه شباهت کمتری به بقیه دارد؟

۲۳	کدام گزینه با بقیه هماهنگ نیست؟	
۲۴	اگر کاغذ شفاف مقابل را از روی خط چین تا کنیم، به کدام شکل دیده می شود؟	
۲۵	کدام گزینه با شکل مقابل تشکیل یک مربع می دهد؟	
۲۶	تصویر مقابل در آینه به چه شکل دیده می شود؟	
۲۷	کلمه ی مقابل در آ ب به چه شکل دیده می شود؟	<p>AMBULANCE</p> <p>AMBULANCE</p> <p>AMBULANCE</p> <p>AMBULANCE</p>
۲۸	چند مربع می توان رسم کرد که رأسشان روی نقاط مقابل باشد؟	
۲۹	کدام گزینه دوران یافته ی شکل مقابل نیست؟	
۳۰	گسترده ی مقابل، مربوط به کدام مکعب است؟	
۳۱		
۳۲		
۳۳		
۳۴		

شهره:   محمد حسین:   پویا:   نبوشا: ?	  ۱   ۲   ۳   ۴	۳۵
   	۲ (۲) ۴ (۴)	۳۶
۱۵۱ (۲)	کدام، با بقیه ناهم‌هنگ است؟ ۷۱۷ (۱) ۱۲۱ (۴)	۳۷
E M U N O P I ? S	M ۱ N ۲ O ۳ P ۴	۳۸
	۲ (۲) ۳ (۳)	۳۹
	P ۱ M ۲ R ۳ Q ۴	۴۰
	۵ (۱) ۴۱ (۴)	۴۱
	۶ (۱) ۲ (۴)	۴۲
	۱۶ (۲) ۲۰ (۴)	۴۳
بزرگ‌ترین عدد صحیح که ۶ برابر آن از ۱۰۰ کوچک‌تر باشد، چند است؟ (۱) ۱۵ ۱۸ (۴)	۱۶ (۲) ۱۷ (۳)	۴۴
مجموع ۲۴ عدد طبیعی، ۳۸۰ است. از این ۲۴ عدد چند عدد ممکن است از ۱۶ بزرگ‌تر باشند؟ ۲۳ (۱) ۱۸	۲۲ (۲) ۲۰ (۳)	۴۵
سه برابر عددی را با خودش جمع کردیم و حاصل ۱۲۸ شد. خمس این عدد چند است؟ ۶/۴ (۳)	۶ (۱) ۵ (۴)	۴۶
اگر $n! = ۱۰ \times ۱۲ \times ۴۲$ باشد n کدام است؟ $(n! = ۱ \times ۲ \times ۳ \times \dots \times n)$ ۶ (۱) ۱۰	۷ (۲) ۹ (۳)	۴۷
مجموع دو عدد، ۲۰ و مجموع عدد اول با سه برابر عدد دوم، ۴۰ است. عدد دوم چند است؟ ۱۰ (۱) ۱۲ (۲)	۱۴ (۳)	۴۸

۴۹	تفاوت عدد ۵۱۷۸۰ و تصویرش در آینه، چند است؟ (۱) ۴۳۰۶۵ (۲) ۲۸۹۳۵ (۳) ۴۶۶۰۲ (۴) هیچ کدام
۵۰	اعداد مختلف را طوری در جدول مقابل قرار می دهیم که حاصل جمع هر ۳ خانه ی متوالی، برابر ۲۰ باشد. X کدام است؟ (۱) ۱۰ (۲) ۸ (۳) ۵ (۴) ۳
۵۱	چند عدد سه رقمی داریم که حداقل یک رقم ۹ داشته باشند؟ (۱) ۶۴۸ (۲) ۸۰۰ (۳) ۲۵۲ (۴) ۳۶۱



مبتدیان