


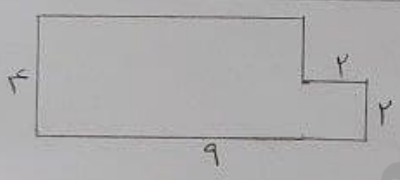
۴- حاصل ضرب ما را با استفاده از روش های خواسته شده به دست آورید.

- الف) با جمع کردن $7 \times 4 =$
- ب) به کمک رسم محور $3 \times 4 =$
- ج) رسم شکل $4 \times 3 =$
- د) الگوی شمارش $9 \times 7 =$

۵- عددهای کسری داده شده را بر روی محور نشان دهید



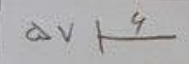
۶- محیط و مساحت شکل مقابل را به دست آورید.



۷- باز شده‌ی عددهای مقابل را بنویسید.

$7924 =$

$5082 =$



۹- حاصل تقسیم را به دست آورید.

$37 \overline{) 5}$

$789 \overline{) 4}$

۸- حاصل را به صورت فزاینده‌ی دست آورید

$23 \overline{) 5}$

$$\begin{array}{r} 7438 \\ - 6125 \\ \hline \end{array}$$

$$\begin{array}{r} 3241 \\ + 1127 \\ \hline \end{array}$$

۱۰- جمع و تفریق زیر را با روش خواسته شده بنویسید (فزاینده)

۱۱- تعداد کتاب های کتابخانه ساری را در جدول آمده بنویسید

نوع	داستان	علمی	مذهبی	سرگرمی
تعداد	۲۰	۱۰	۳۰	۱۰

BeautyCam