

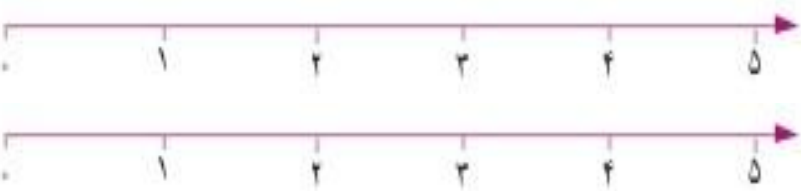
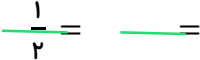









<table border="1"> <tr><td>۹</td></tr> <tr><td>۲۳</td></tr> <tr><td>۱۴۰</td></tr> </table>	۹	۲۳	۱۴۰		<table border="1"> <tr><td> </td></tr> <tr><td> </td></tr> <tr><td> </td></tr> </table>					<table border="1"> <tr><td> </td></tr> <tr><td> </td></tr> <tr><td> </td></tr> </table>				جای خالی را با عدد مناسب پر کنید.		۱
۹																
۲۳																
۱۴۰																
	شکل (۱)	شکل (۲)	شکل (۳)	۳۰ ، ۳۴ ، ۲۹ ، ۳۳ ، ۲۸ ، ..... ، ..... ، ..... ، .....	الگوها را با توجه به نمونه ادامه دهید.		۲									
<table border="1"> <tr> <td>زمان</td> <td>۱۵</td> <td>۲۳</td> <td> </td> <td>۲۰</td> </tr> <tr> <td>بعد از ظهر</td> <td>۳</td> <td> </td> <td>۵</td> <td> </td> </tr> </table>	زمان	۱۵	۲۳		۲۰	بعد از ظهر	۳		۵		جدول داده شده زمان را مانند نمونه پر کنید.					۳
زمان	۱۵	۲۳		۲۰												
بعد از ظهر	۳		۵													
جاهای خالی را با پاسخ مناسب پر کنید.								۴								
کوچک ترین عدد چهار رقمی (باتکرار رقم ها): (.....) ، بزرگ ترین عدد چهار رقمی (باتکرار رقم ها): (.....)								۴								
	جاهای خالی داده شده را پر کنید.							۵								
۲۷۵۰ گرم یعنی ..... کیلو و ..... گرم.								۵								
۳۲۵ سانتی متر یعنی ..... متر و ..... سانتی متر.								۵								
عدد ۵۳۲۱ یعنی ..... یکی ..... ده تایی ..... صدتایی ..... هزارتایی.								۵								
با توجه به محور اعداد داده شده را به صورت تقریبی نشان دهید.								۶								
۹۲۰ ، ۲۲۵۰ ، ۴۷۸۱ ، ۶۰۹۹								۶								

۰ ۱۰۰۰ ۲۰۰۰ ۳۰۰۰ ۴۰۰۰ ۵۰۰۰ ۶۰۰۰ ۷۰۰۰ ۸۰۰۰ ۹۰۰۰

	<p>عدد داده شده را به صورت گسترده بنویسید.</p> <p>  <math>7926 = \dots + \dots + \dots + \dots</math>   <math>5324 = \dots + \dots + \dots + \dots</math> </p>	۷
	<p>عدد های کسری داده شده را روی محور نشان دهید.</p> 	۸
	<p>برای کسر <math>\frac{1}{3}</math> دو کسر مساوی با آن نوشته و با قسمت بندی مناسب روی شکل نشان دهید.</p> <p>  =  </p> 	۹
	<p>هر کدام از کسرهای داده شده را روی شکل نشان دهید و با استفاده از آن ها مقایسه کرده و علامت <math>&lt; = &gt;</math> بگذارید.</p> <p>    </p>	۱۰

بسر عزیزم موفق باشید

