

وزارت آموزش و پرورش
مدیریت آموزش و پرورش شهرستان قوچان
دبستان غیردولتی راهیان نور

نام و نام خانوادگی: نام درس: ریاضی پایه: سوم
تاریخ امتحان: ساعت امتحان: مدت امتحان:

۱- عدد ۷۳۲۶ را در جدول ارزش مکانی قرار دهید و به سوالات پاسخ دهید

این عدد چند رقمی است عدد را به حروف بنویسید

ارزش مکانی کدام رقم از همه بیشتر است

۲- حاصل جمع و تفریقای زیر را بنویسید

$$۹۰۰۰ + ۷ + ۳۰ = \quad ۱۰۰۰ - ۳۰۰ = \quad ۲ \text{ هزارتایی} - ۹ \text{ هزارتایی}$$

$$۲۵۰ + ۵۵۰ + ۱۰۰ + ۳۵۰ = \quad ۱۰۰۰ + ۱۰۰ + ۴۰۰۰ + ۳۰۰۰ + ۲۰۰ =$$

۳- جاهای خالی را با عددهای مناسب کامل کنید

عدد ۵۰۰۲ یعنی یکی ده تایی صدتایی هزارتایی

عدد یعنی ۳ یکی ، ۴ ده تایی ، صفر صدتایی و ۶ هزارتایی

عدد ۸۲۹۰ یعنی یکی ده تایی صدتایی هزارتایی پ

۴- اتوبوسی ساعت ۶ صبح از تهران به سمت اصفهان حرکت کرد و بعد از ۹ ساعت به اصفهان رسید. اتوبوس ساعت چند بعد از ظهر به اصفهان رسید

۵- عددهای ۴ رقمی بنویسید که صدگان آن ها ۷ ، دهگان آنها ۲ و ۳ ، یکان آن ۴ و هزارگان آن ۵ باشد

۶- جمع و تفریق زیر را بصورت فرآیندی و انتقالی انجام دهید.

$$\begin{array}{r} ۱۲۳ \\ + ۴۳۵ \\ \hline \end{array} \quad \begin{array}{r} ۷۹۸ \\ + ۲۳۹ \\ \hline \end{array} \quad \begin{array}{r} ۴۵۲ \\ - ۲۲۸ \\ \hline \end{array}$$



۷- با توجه به ماشین ورودی و خروجی جاهای خالی را کامل کنید.

$\bigcirc + 14$ $\bigcirc - 10$ \bigcirc

۸- ۳۰۲۳ گرم می شود کیلوگرم و گرم ۵۰ میلی متر سانتی متر




..... گرم می شود ۵ کیلوگرم و ۳۶۱ گرم ۱۰۰ متر سانتی متر

۹- کسرهای زیر را مقایسه کنید

$\frac{9}{9}$	$\frac{3}{3}$	$\frac{4}{5}$	$\frac{3}{5}$	$\frac{8}{7}$	$\frac{8}{4}$	$\frac{2}{3}$	$\frac{3}{4}$
<input type="text"/>	<input type="text"/>	<input type="text"/>	<input type="text"/>	<input type="text"/>	<input type="text"/>	<input type="text"/>	<input type="text"/>

۱۰- زمین کشاورزی را به ۵ قسمت تقسیم کرده اند که کاشته نشده است
 زمین را سبزی و زمین را کاهو کاشته اند. چه کسری

کسرهای مربوط قسمتهای رنگی را بنویسید



برای شکل مقابل تساوی کسر را بنویسید

اعداد زیر را روی محور نشان دهید

۳ ۳ بعد از عدد ۳ ۳ ۶ واحد قبل از عدد ۱ ۲ واحد مانده به عدد ۲

به چند روش می توان دایره رسم کنیم نام ببرید

زاویه راست را تعریف کنید و مثلث متساوی الاضلاع چند زاویه دارد

کدامیک از کسرهای زیر ربع است . ۱ ۱ ۱ ۱