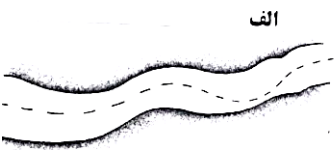
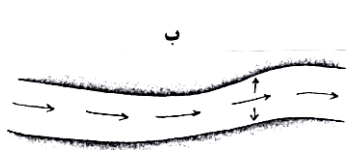


جمهوری اسلامی ایران
اداره کل آموزش و پرورش ش ۱۱ تهران

ش صندلی (ش داوطلب) :	نام واحد آموزشی : دبیرستان ندای فاطمه (س)	نوبت امتحانی : خرداد ماه	ساعت امتحان : ۸ صبح
نام و نام خانوادگی :	پایه : یازدهم	رشته : علوم انسانی	وقت امتحان : ۸۰ دقیقه
سوالات امتحان درس : جغرافیا ۲	نام دبیر : سرکار خانم سیف اله زاده	سال تحصیلی ۹۸-۹۷	تاریخ امتحان : ۹۷/۰۳/۲۱
			تعداد برگ سوال : ۲ برگ (۳ صفحه)

بارم	سؤالات
۱/۵	الف) جملات زیر را با کلمات مناسب کامل کنید : ۱ - نواحی صنعتی اروپا بیشتر در بخشهای این قاره استقرار یافته اند . ۲ - در نواحی ساحلی از انرژی حاصل از امواج و استفاده می شود. ۳ - در بین خانواده های زبانی آفرو آسیایی معروف ترین و مهمترین آنها زبان میباشد. ۴ - از مهمترین عوامل پیدایش و بقای یک کشور و همبستگی ملی و پیوستگی سر زمین میباشد . ۵ - در کشورهای طویل و نظارت حکومت بر همه قسمت های کشور با مشکل مواجه است . ۶ - خرید و فروش کالا و خدماتی است که نیاز های ما را برطرف می کند .
۱	ب) جملات درست و نادرست را مشخص کنید : ۱ - بارش های بهاری بیشتر از نوع بارندگی همرفتی میباشد ۲ - طاق های دریایی جزء اشکال فرسایش تراکمی هستند ۳ - به آبهای پشت خط مبنا (بطرف ساحل) آبهای آزاد می گویند. ۴ - ملت عنصر بنیادی یک کشور است . درست نادرست درست نادرست درست نادرست درست نادرست
۰/۵	ج) گزینه صحیح را انتخاب کنید : ۱ - کالاهایی همچون ذغال سنگ ، سنگ آهن ، سیمان توسط کدام کشتی ها حمل می شوند ؟ الف) کانتینر ب) فله بر ج) شناورهای تانکر د) نفتکش ۲ - کدام کشور به علت قرار گرفتن بین آلمان و روسیه در دوره هایی از تاریخ موجودیت خود را از دست داد؟ الف) مجارستان ب) فنلاند ج) لهستان د) سوئیس
۱/۵	د) موارد سمت راست را به گزینه های صحیح در سمت چپ متصل کنید: ۱ - منطقه آزاد تجاری الف) استان ۲ - نظریه فضای حیاتی ب) کشور های صادر کننده نفت ۳ - نخجوان ج) آلفرد ماهان ۴ - اوپک د) ناحیه خود مختار ۵ - ناحیه فرو ملی ه) قشم ۶ - نظریه قدرت دریایی و) اتحادیه اروپا ز) راتزل
۰/۵	ه) هر یک از اشکال زیر کدام خط مرزی رودخانه ای را نشان می دهد ؟ الف  ب 

بارم	سؤالات
۰/۵	و) در مثالهای زیر به کدام رابطه متقابل انسان و نواحی اشاره شده است ؟ ۱ - تهران به مهمترین قطب صنایع مصرفی کشور تبدیل شده است . ۲ - سقف خانه ها در یزد گنبدی شکل است .
۰/۵	ز) اصطلاحات زیر را تعریف کنید : (۱) حاکمیت: (۲) منطقه ژئوپولتیکی :
۱	
۰/۵	ح) به سوالات زیر کوتاه پاسخ دهید : ۱ - بر طبق جدول کوپن ، کشور ایران از نظر بارش و پوشش گیاهی چگونه است ؟
۰/۷۵	۲ - نواحی صنعتی روسیه و اروپای شرقی را معرفی کنید .
۰/۷۵	۳ - شاخص های توسعه انسانی کدامند ؟
۰/۷۵	۴ - مهمترین نواحی کشت غله (گندم) در دنیا کدام کشور ها می باشند ؟ (سه مورد)
۰/۷۵	ط) موارد صحیح را از داخل کادر انتخاب کرده ، مقابل توضیحات بنویسید . <div style="border: 1px solid black; padding: 5px; text-align: center;"> نیمه پیرامون - مرکز - پیرامون </div> ۱ - این کشورها از فناوری بالا و زیر ساخت مناسب اقتصادی برخوردارند. ۲ - کشورهایی از قاره آفریقا و آمریکای لاتین و آسیا جزء این کشور ها می باشند ۳ - از جمله این کشور ها میتوان به چین در دو دهه اخیر و کره جنوبی و سنگاپور اشاره کرد
۱	ی) شکل هر یک از کشور های زیر را مشخص کنید . تایلند () نروژ () فیلیپین () ایران ()
۰/۵	ک) درباره ی تأثیر متقابل سیاست و فضای جغرافیایی به سوالات زیر پاسخ دهید . ۱ - تونل مانس بین کدام کشور ها احداث شده است ؟
۰/۵	۲ - وجود پارک بانوان در یک شهر بیانگر چیست ؟
۰/۷۵	۳ - شبه جزیره کریمه موضوع کشمکش بین کدام کشورها است ؟
۰/۷۵	۴ - چرا منطقه خلیج فارس مورد توجه قدرت های بزرگ جهان بوده است ؟

سؤالات

ل (نوع مرز های زیر را مشخص کنید :

پیشتاز - تطبیقی - تحمیلی

۱- مرز کره شمالی و جنوبی

۲- مرز کانادا و آلاسکا

۳- مرز هند و پاکستان

م (به سوالات زیر پاسخ کامل دهید .

۱- برای محافظت از کوهستانهای ایران دو راه پیشنهاد دهید.

۲- وجود مغازه پیتزا فروشی در یک روستا کدام شکل از پدیده پخش را نشان می دهد ، توضیح دهید.

۳- به چه دلیل شرکتهای چند ملیتی به سرمایه گذاری در کشور های دیگر علاقمند هستند ؟

۴- دو ویژگی برای نظام سیاسی تک ساخت (یکپارچه) ذکر کنید .

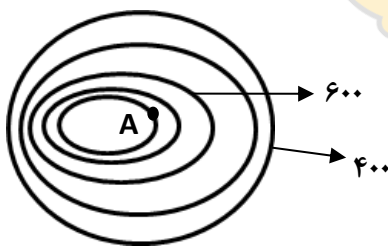
۵- سه مورد از فعالیت های اقتصادی را نام برده و برای هر کدام یک مثال بیاورید .

ن (با توجه به شکل مقابل به سوالات زیر پاسخ دهید :

۱- ارتفاع نقطه A چقدر است ؟

۲- فاصله منحنی های میزان چند متر است ؟

۳- شیب در سمت راست بیشتر است یا در سمت چپ ؟



به حروف:

نمره تجدید نظر (به عدد) :

به حروف:

نمره ورقه (به عدد):

تاریخ : / / ۱۳۹۷

نام و نام خانوادگی دبیر:

تاریخ : / / ۱۳۹۷

نام و نام خانوادگی دبیر: