

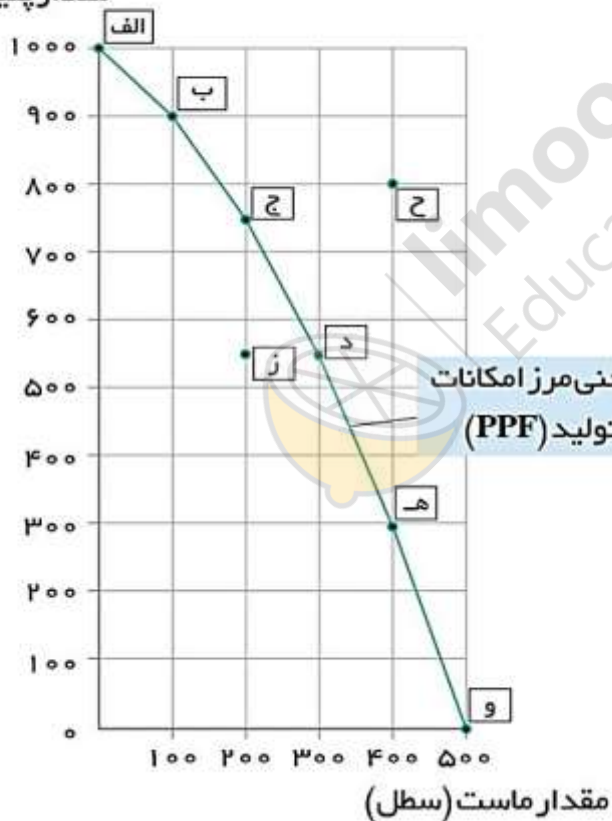
*امتحان بصورت مجازی می باشد و هر دانش آموز فقط تعداد محدودی از این سوالات را به صورت شفاهی پاسخ می دهد.

۱- کارآفرین به چه کسی اطلاق می شود؟

۲- مزایای ایجاد شرکت را نام ببرید؟

۳- در شکل زیر هزینه فرصت حرکت از نقطه ی 'ج' به 'د' چیست؟

مقدار پنیر (بسته)

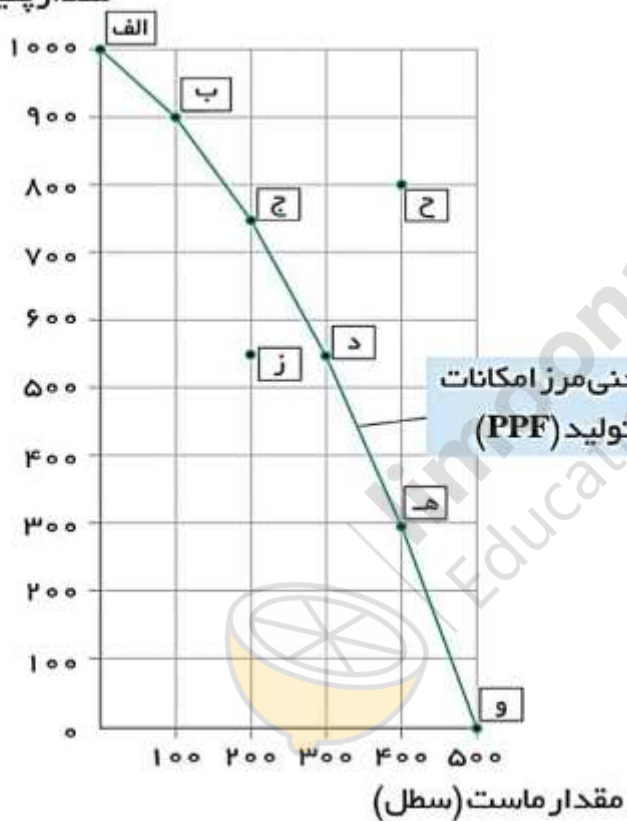


۴- اهداف دریافت مالیات چیست؟

*امتحان بصورت مجازی می باشد و هر دانش آموز فقط تعداد محدودی از این سوالات را به صورت شفاهی پاسخ می دهد.

۵- قرارداد گات به چه دلیل تشکیل شد؟

مقدار پنیر (بسته)



*امتحان بصورت مجازی می باشد و هر دانش آموز فقط تعداد محدودی از این سوالات را به صورت شفاهی پاسخ می دهد.

۶- هزینه فرصت حرکت از نقطه 'د' به 'ه' چیست؟



۷- با توجه به جریان چرخشی تعاملات خانوارها، دولت، بنگاههای اقتصادی تکمیل کننده

عبارت ۱ و ۲ چیست؟

۸- با توجه به اطلاعات نتیجه عملکرد سالیانه بنگاه اقتصادی چیست؟

✓ خرید مواد اولیه ماهیانه ۱۰ میلیون تومان

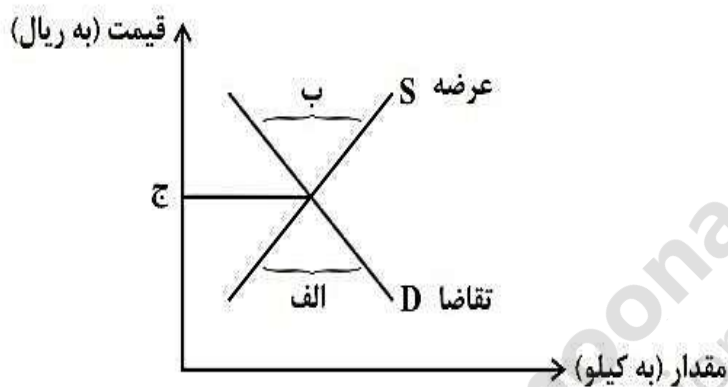
✓ پول عوارض شهرداری و آب و برق و گاز و مالیات سالیانه ۲۰۰ میلیون تومان

✓ دستمزد ماهیانه هر کارگر ۱ میلیون تومان (مجموع ۱۵ کارگر)

✓ درآمد سالیانه ۱/۵ میلیارد تومان

*امتحان بصورت مجازی می باشد و هر دانش آموز فقط تعداد محدودی از این سوالات را به صورت شفاهی پاسخ می دهد.

۹- به ترتیب چه مواردی به درستی الف و ب را کامل می کند؟



۱۰- مزایای کسب و کار شخصی را نام ببرید؟

