


نام و نام خانوادگی:
 پایه و رشته:
 نام پدر:
 شماره داوطلب:

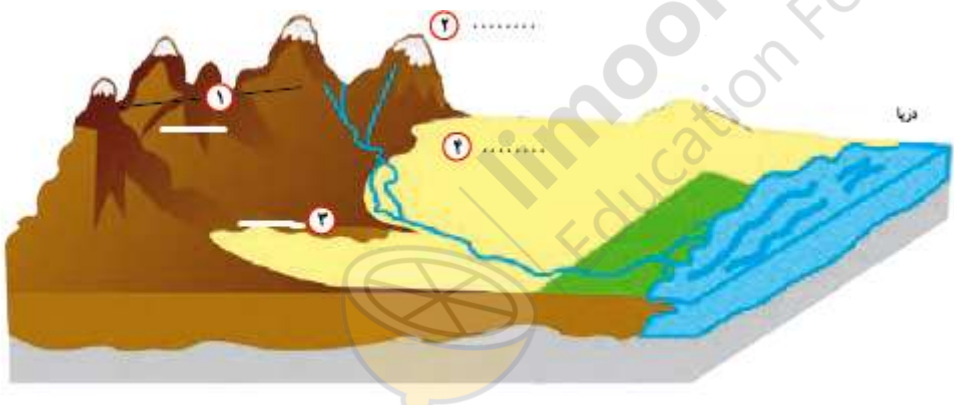
اداره کل آموزش و پرورش شهر تهران
 مدیریت منطقه ۲
 دبیرستان دوره اول پسرانه 
 امتحانات نوبت دوم سال تحصیلی ۹۶-۱۳۹۵

نام درس:
 تاریخ امتحان:
 ساعت امتحان:
 مدت امتحان: دقیقه.

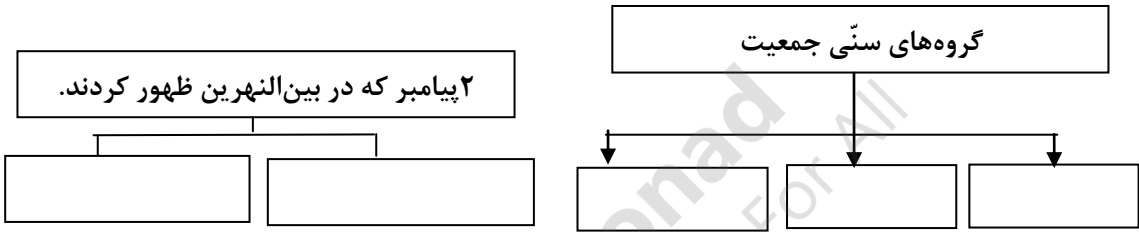
نمره به عدد:	نمره به حروف:	نمره تجدید نظر به عدد:	نمره به حروف:	محل مهر و امضاء مدیر
نام دبیر:	تاریخ و امضاء:	نام دبیر:	تاریخ و امضاء:	
ردیف	سوالات	بارم		

بخش اختیاری: فصل ۱ تا آخر فصل ۶ دانش آموز آموزان عزیز لطفاً در این بخش فقط دو فصل را انتخاب کنید و به سوالات همان دو فصل پاسخ دهید.

ردیف	سوالات	بارم
فصل اول	۱- مهمترین حق برای هر انسان چیست؟ الف) غذا <input type="checkbox"/> ب) تحصیل <input type="checkbox"/> ج) حیات <input type="checkbox"/> د) مسکن <input type="checkbox"/>	۰/۲۵
	۲- وظایفی که هر یک از ما به عهده داریم و انتظار می رود آنها را انجام دهیم، چه نام دارد؟ الف) حقوق <input type="checkbox"/> ب) تحصیل <input type="checkbox"/> ج) مسئولیت <input type="checkbox"/> د) مشق <input type="checkbox"/>	۰/۲۵
	۳- چه چیزی موجب می شود، افراد حقوقی بر مبنای قوانین آن کشور داشته باشند. الف) اهل جایی بودن <input type="checkbox"/> ب) تبعه جایی بودن <input type="checkbox"/> ج) ساکن جایی بودن <input type="checkbox"/> د) مسافر جایی بودن <input type="checkbox"/>	۰/۲۵
	۴- ما تا آنجا می توانیم حق خود را اعمال کنیم که قانون نباشد.	۰/۲۵
	۵- ما در روابطی که با دیگران برقرار می کنیم دارای «.....» هستیم.	۰/۲۵
	۶- چیزهایی که انسان به دلیل مقام انسانی اش، شایستگی داشتن آنها را دارد، چه نام دارد؟	۰/۲۵
	۷- یکی از مهمترین دلایل پدید آمدن قوانین و مقررات در جامعه، برقراری نظم است. صحیح <input type="checkbox"/> غلط <input type="checkbox"/>	۰/۲۵
	۸- قانون اساسی مادر همه قانون هاست و سایر قوانین در چارچوب آن تصویب می شوند. صحیح <input type="checkbox"/> غلط <input type="checkbox"/>	۰/۲۵
	۹- هیچ کس نباید با کفش وارد نمازخانه و مسجد شود، این عبارت مربوط به کدام گزینه است؟ الف) قرارداد اجتماعی <input type="checkbox"/> ب) دستور مذهبی <input type="checkbox"/> ج) قانون <input type="checkbox"/> د) شعار سیاسی <input type="checkbox"/>	۰/۲۵
	۱۰- قانون اساسی توسط این نهاد نوشته شد. الف) مجلس خبرگان <input type="checkbox"/> ب) مجلس شورای اسلامی <input type="checkbox"/> ج) شورای نگهبان <input type="checkbox"/> د) قوه مقننه <input type="checkbox"/>	۰/۲۵
فصل دوم	۱۱- این نهاد بر انتخاباتی که در کشور برگزار می شود مانند انتخابات ریاست جمهوری و مجلس شورای اسلامی، نظارت می کند. الف) شورای نگهبان <input type="checkbox"/> ب) مجلس خبرگان <input type="checkbox"/> ج) قوه مجریه <input type="checkbox"/> د) قوه قضاییه <input type="checkbox"/>	۰/۲۵
	۱۲- مهمترین قانون هر کشور قانون آن کشور است.	۰/۲۵
	۱۳- این موسسه در زمان وقوع حوادث طبیعی یا جنگ ها به کمک مردم می شتابد. ()	۰/۲۵
	۱۴- این موسسه برای جبران زیان های مالی و جانی به وجود آمده است. ()	۰/۲۵
فصل سوم	۱۵- حدس بزن (هر مورد ۰/۵ نمره) با اندکی دقت به سوالات زیر پاسخ دهید. الف) یک قرارداد بین بیمه گر و بیمه شونده (بیمه گذار) است. ← <input type="text"/>	۰/۲۵
	ب) این مفهوم به این معناست که خود را به جای فرد دچار حادثه شده بگذاریم و احساس و شرایط او را درک کنیم. → <input type="text"/>	۰/۲۵

۰/۵	۱۶- نوع بیمه‌های زیر را مشخص کنید.(اختیاری یا اجباری بودن) الف) بیمه وسایل نقلیه) () بیمه عمر) ()	
۰/۵	۱۷- چیستان - من کیستم؟ « خیلی زود تحت تأثیر آگهی‌های تبلیغاتی یا مُدگرایی قرار می‌گیرم و اغلب برای تفریح یا خودنمایی و چشم و هم چشمی با دیگران کالایی را می‌خرم.» ()	فصل چهارم
۰/۷۵	۱۸- نمودار مقابل را تکمیل نمایید. <div style="text-align: center;"> <div style="border: 1px solid black; padding: 5px; width: fit-content; margin: 0 auto;">سه گروه عمده فعالیت‌های اقتصادی</div> <div style="display: flex; justify-content: center; gap: 20px; margin-top: 10px;"> <div style="border: 1px solid black; width: 100px; height: 40px;"></div> <div style="border: 1px solid black; width: 100px; height: 40px;"></div> <div style="border: 1px solid black; width: 100px; height: 40px;"></div> </div> </div>	
۰/۲۵	۱۹- تولید محصول به منظور رفع صورت می‌گیرد.	
۰/۵	۲۰- چیستان - من کیستم؟ « وسیله‌ای مهم در علم جغرافیا هستم در واقع تصویری افقی از سطح زمین هستم که به نسبت مورد نیاز کوچک شده‌ام.» ()	فصل پنجم
۱	۲۱- تکمیل مُدل: روی مُدل کنار شماره‌ها کلمه‌ی دشت، کوهپایه، قله و رشته‌کوه را بنویسید.(هر مورد ۰/۲۵ نمره). 	
۰/۲۵	۲۲- میزان دما و بارش را به صورت نمودار نمایش می‌دهیم. <input type="checkbox"/> غلط <input type="checkbox"/> صحیح	فصل ششم
۰/۲۵	۲۳- مرطوب‌ترین ناحیه‌ی آب و هوایی کشور ناحیه‌ی معتدل و نیمه‌خشک کوهستانی است. <input type="checkbox"/> غلط <input type="checkbox"/> صحیح	
۰/۲۵	۲۴- کوههای خراسان در کجای ایران قرار دارد؟ الف) شمال شرقی <input type="checkbox"/> ب) جنوب شرقی <input type="checkbox"/> ج) جنوب غربی <input type="checkbox"/> د) شمال غربی <input type="checkbox"/>	
۰/۲۵	۲۵- در ناحیه معتدل و مرطوب خزری میزان بارش از غرب به شرق چه تغییری می‌کند؟ الف) کاهش می‌یابد. <input type="checkbox"/> ب) افزایش می‌یابد. <input type="checkbox"/> ج) تغییری چندانی نمی‌کند. <input type="checkbox"/> د) ثابت می‌ماند. <input type="checkbox"/>	
۰/۵	۲۶- مهمترین عناصر آب و هوایی را بنویسید.	

بارم	بخش اجباری: فصل ۷ تا آخر فصل ۱۲ دانش‌آموزان عزیز در این بخش به همه سوالات پاسخ دهید.	ردیف
۱	سوالات صحیح- غلط (۲۷ تا ۳۰)	الف
۰/۲۵	در برخی کشورها مانند سوئد و نروژ تعداد زاد و ولدها کمتر از مرگ و میرها شده است. صحیح <input type="checkbox"/> غلط <input type="checkbox"/>	۲۷
۰/۲۵	آب و خاک از منابع محدود هستند. صحیح <input type="checkbox"/> غلط <input type="checkbox"/>	۲۸
۰/۲۵	تنها رود قابل کشتیرانی در ایران، رود کارون است. صحیح <input type="checkbox"/> غلط <input type="checkbox"/>	۲۹
۰/۲۵	به نسبت مساحت یک جا به نسبت افرادی که در آنجا زندگی می‌کنند، تراکم جمعیت گویند. صحیح <input type="checkbox"/> غلط <input type="checkbox"/>	۳۰
۱/۵	سوالات چهارگزینه‌ای (۳۱ تا ۳۶)	ب
۰/۲۵	تراکم جمعیت ایران در سال ۱۳۹۰ حدود چند نفر در کیلومتر مربع بوده است؟ الف) ۲۶ نفر <input type="checkbox"/> ب) ۶۴ نفر <input type="checkbox"/> ج) ۴۶ نفر <input type="checkbox"/> د) ۶۲ نفر <input type="checkbox"/>	۳۱
۰/۲۵	دلیل جمعیت زیاد ناحیه خوزستان در کدام گزینه آمده است؟ الف) سازمانهای مهم دولتی <input type="checkbox"/> ب) آب فراوان <input type="checkbox"/> ج) داشتن معادن و ذخایر <input type="checkbox"/> د) خاک حاصلخیز <input type="checkbox"/>	۳۲
۰/۲۵	کدام گزینه با بقیه متفاوت است؟ الف) رود <input type="checkbox"/> ب) چاه <input type="checkbox"/> ج) چشمه <input type="checkbox"/> د) قنات <input type="checkbox"/>	۳۳
۰/۲۵	طبق آمار سالیانه حدود ۱۷ میلیون نفر به این شهر سفر می‌کنند. الف) اصفهان <input type="checkbox"/> ب) تهران <input type="checkbox"/> ج) مشهد <input type="checkbox"/> د) شیراز <input type="checkbox"/>	۳۴
۰/۲۵	از نظر جمعیتی ایران در مقایسه با کشورهای همسایه چگونه کشوری است؟ الف) کم جمعیت <input type="checkbox"/> ب) پر جمعیت <input type="checkbox"/> ج) نسبتاً کم جمعیت <input type="checkbox"/> د) نسبتاً پر جمعیت <input type="checkbox"/>	۳۵
۰/۲۵	کاهش جمعیت جوان و افزایش سالمندان حاصل کدام فرایند رشد جمعیتی است؟ الف) رشد منفی <input type="checkbox"/> ب) رشد مثبت <input type="checkbox"/> ج) رشد ثابت <input type="checkbox"/> د) رشد خنثی <input type="checkbox"/>	۳۶
۱	جاخالی (۳۷ تا ۴۰)	پ
۰/۲۵ لایه‌ی نازکی از پوسته زمین است که از خرد شدن پوسته زمین به وجود آمده است.	۳۷
۰/۲۵	سواحل خلیج فارس و دریای عمان در زمستان‌ها از مراکز مهم هستند.	۳۸
۰/۲۵	آرامگاه علامه محمد تقی جعفری و در جوار مرقد مطهر امام رضا(ع) قرار دارد.	۳۹
۰/۲۵	اگر تعداد افرادی که متولد می‌شوند کمتر از افرادی باشد که می‌میرند، جمعیت می‌یابد.	۴۰

۲/۵	<p>سوالات جورکردنی (۴۱)</p> <p>شماره گزینه مرتبط با هر یک از عبارتهای الف، ب، ج، د و ه را مقابل آن بنویسید (یک گزینه اضافی است).</p> <p>الف) آخرین حکومت ایران باستان ()</p> <p>ب) نخستین امپراتوری جهانی ()</p> <p>ج) حکومتی بیگانه در ایران باستان ()</p> <p>د) قوم پارت این حکومت را تشکیل دادند. ()</p> <p>ه) نخستین حکومت آریایی در ایران ()</p> <p>۱- مادها</p> <p>۲- سلوکیان</p> <p>۳- هخامنشیان</p> <p>۴- ساسانیان</p> <p>۵- اشکانیان</p> <p>۶- پارسها</p>	ت ۴۱															
۲/۵	تکمیل نمودار (هر مورد ۰/۵ نمره)	ث															
	<p>گروه‌های سنتی جمعیت</p> <p>۲ پیامبر که در بین‌النهرین ظهور کردند.</p> 	۴۲															
۱	تکمیل جدول (هر مورد ۰/۲۵ نمره)	ج															
	<table border="1" data-bbox="172 1196 1412 1592"> <thead> <tr> <th>ردیف</th> <th>توضیح</th> <th>پاسخ</th> </tr> </thead> <tbody> <tr> <td>۱</td> <td>این سازمان مسئولیت سرشماری جمعیت کشورمان را بر عهده دارد.</td> <td></td> </tr> <tr> <td>۲</td> <td>رودهایی که از کوه‌های زاگرس سرچشمه می‌گیرند، به این حوضه آبریز می‌ریزند.</td> <td></td> </tr> <tr> <td>۳</td> <td>این سازمان حفاظت از خاکهای کشورمان را به عهده دارد.</td> <td></td> </tr> <tr> <td>۴</td> <td>از منابع مهم تأمین آب شهرنشینان و روستاییان است.</td> <td></td> </tr> </tbody> </table>	ردیف	توضیح	پاسخ	۱	این سازمان مسئولیت سرشماری جمعیت کشورمان را بر عهده دارد.		۲	رودهایی که از کوه‌های زاگرس سرچشمه می‌گیرند، به این حوضه آبریز می‌ریزند.		۳	این سازمان حفاظت از خاکهای کشورمان را به عهده دارد.		۴	از منابع مهم تأمین آب شهرنشینان و روستاییان است.		۴۳
ردیف	توضیح	پاسخ															
۱	این سازمان مسئولیت سرشماری جمعیت کشورمان را بر عهده دارد.																
۲	رودهایی که از کوه‌های زاگرس سرچشمه می‌گیرند، به این حوضه آبریز می‌ریزند.																
۳	این سازمان حفاظت از خاکهای کشورمان را به عهده دارد.																
۴	از منابع مهم تأمین آب شهرنشینان و روستاییان است.																
۱/۵	<p>حدس بزن (هر مورد ۰/۵ نمره)</p> <p>با اندکی دقت به سوالات زیر پاسخ دهید.</p> <p>الف) این تمدن حدود ۵ هزار سال قبل در نزدیکی شهر زابل کشف شد. ← []</p> <p>ب) این معبد که شهرت جهانی دارد در نزدیکی شوش است. ← []</p> <p>ج) این تمدن حدود ۱۳ سال پیش در کنار هلیل رود کرمان شناسایی شد. ← []</p>	ج ۴۴															

وصل کردنی: شماره مربوط به ردیف‌های الف، ب، ج و د را در ستون «شماره‌ی مربوطه» بنویسید. (هر مورد ۰/۲۵)

۲

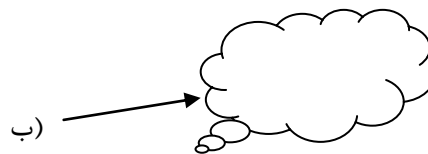

ردیف	نام حکومت	شماره مربوطه	شماره	موسس
الف	مادها		۱	کوروش
ب	هخامنشیان		۲	دی‌اُکو
ج	اشکانیان		۳	اردشیر بابکان
د	ساسانیان		۴	آرشک

ردیف	نام حکومت	شماره مربوطه	شماره	پایتخت
الف	مادها		۱	گور(فیروزآباد)
ب	هخامنشیان		۲	صدررازه(دامغان)
ج	اشکانیان		۳	بابل
د	ساسانیان		۴	هگمتانه(همدان)


چیستان(هر مورد ۰/۵ نمره)

الف) من کیستم؟ «همین که خبردار شدم هخامنشیان ضعیف و ناتوان شده‌اند، یونانیان را به انتقام‌جویی دعوت کردم و شخصاً همراه سپاهیانم تخت جمشید را به آتش کشیدم.»

ب) من کیستم؟ «از جمله منابعی هستم که مورخان برای پی‌بردن به اوضاع و احوال مردم دوره ایران باستان از من استفاده می‌کنند.»



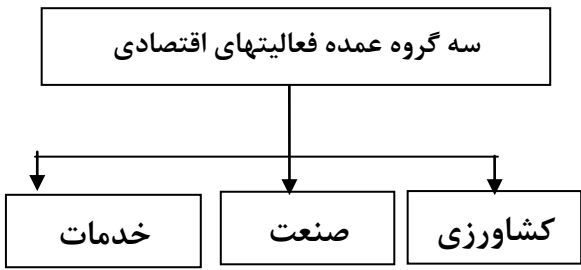
نام و نام خانوادگی:
پایه و رشته:
نام پدر:
شماره داوطلب:

اداره کل آموزش و پرورش شهر تهران
مدیریت منطقه ۲
دیپارتمان دوره اول پسرانه  مرزداران
امتحانات نوبت دوم سال تحصیلی ۹۶-۱۳۹۵

نام درس:
تاریخ امتحان: ۱۳۹۵/---/---
ساعت امتحان: --- صبح
مدت امتحان: دقیقه.

کلید امتحان

ردیف	سؤالات	بارم
فصل اول	۱- گزینه ج	۰/۲۵
	۲- گزینه ج	۰/۲۵
	۳- گزینه ب	۰/۲۵
	۴- مغایر	۰/۲۵
	۵- حقوق متقابل	۰/۲۵
	۶- حق	۰/۲۵
فصل دوم	۷- صحیح	۰/۲۵
	۸- صحیح	۰/۲۵
	۹- گزینه ب	۰/۲۵
	۱۰- گزینه الف	۰/۲۵
	۱۱- گزینه الف	۰/۲۵
	۱۲- اساسی	۰/۲۵
فصل سوم	۱۳- هلال احمر	۰/۲۵
	۱۴- بیمه	۰/۲۵
	۱۵- الف) بیمه ب) همدلی	۰/۲۵ ۰/۲۵
	۱۶- الف) اجباری ب) اختیاری	۰/۵

۰/۵	۱۷- فرد مصرف‌گرا	فصل چهارم
۰/۷۵	۱۸- سه گروه عمده فعالیتهای اقتصادی 	
۰/۲۵	۱۹- نیازها و خواسته‌های انسان	
۰/۵	۲۰- نقشه	فصل پنجم
۱	۲۱- (۱) رشته کوه (۲) قله (۳) کوهپایه (۴) دشت	
۰/۲۵	۲۲- صحیح	
۰/۲۵	۲۳- غلط	
۰/۲۵	۲۴- گزینه الف	فصل ششم
۰/۲۵	۲۵- گزینه الف	
۰/۵	۲۶- دما و بارش	
۱	الف سوالات صحیح- غلط (۲۷ تا ۳۰)	
۰/۲۵	۲۷ غلط	
۰/۲۵	۲۸ صحیح	الف
۰/۲۵	۲۹ صحیح	
۰/۲۵	۳۰ غلط	
۱/۵	ب سوالات چهارگزینه‌ای (۳۱ تا ۳۶)	
۰/۲۵	۳۱ گزینه ج	
۰/۲۵	۳۲ گزینه ج	
۰/۲۵	۳۳ گزینه الف	
۰/۲۵	۳۴ گزینه ج	
۰/۲۵	۳۵ گزینه د	

۰/۲۵	گزینه الف	۳۶															
۱	جاخالی (۳۷ تا ۴۰)	پ															
۰/۲۵	خاک	۳۷															
۰/۲۵	گردشگری	۳۸															
۰/۲۵	شیخ بهایی	۳۹															
۰/۲۵	کاهش	۴۰															
۲/۵	الف) (۳) ب) (۵) ج) (۶) د) (۴) ه) (۱)	ت ۴۱															
۲/۵	تکمیل نمودار (هر مورد ۰/۵ نمره)	ث															
	<p style="text-align: center;">گروه‌های سنی جمعیت</p> <pre> graph TD A[گروه‌های سنی جمعیت] --> B[بیشتر از ۶۵ سال سالندان] A --> C[۲۶ تا ۶۵ سال بزرگسالان] A --> D[۱ تا ۲۵ سال کودک و نوجوان] E[۲ پیامبر که در بین‌النهرین ظهور کردند.] --> F[حضرت نوح(ع)] E --> G[حضرت ابراهیم(ع)] </pre>	۴۲															
۱	تکمیل جدول (هر مورد ۰/۲۵ نمره)	ج															
	<table border="1"> <thead> <tr> <th>ردیف</th> <th>توضیح</th> <th>پاسخ</th> </tr> </thead> <tbody> <tr> <td>۱</td> <td>این سازمان مسئولیت سرشماری جمعیت کشورمان را بر عهده دارد.</td> <td>مرکز آمار</td> </tr> <tr> <td>۲</td> <td>رودهایی که از کوه‌های زاگرس سرچشمه می‌گیرند، به این حوضه آبریز می‌ریزند.</td> <td>حوضه آبریز خلیج فارس و دریای عمان</td> </tr> <tr> <td>۳</td> <td>این سازمان حفاظت از خاکهای کشورمان را به عهده دارد.</td> <td>جنگل‌ها، مراتع و آبخیزداری</td> </tr> <tr> <td>۴</td> <td>از منابع مهم تأمین آب شهرنشینان و روستاییان است.</td> <td>رودها</td> </tr> </tbody> </table>	ردیف	توضیح	پاسخ	۱	این سازمان مسئولیت سرشماری جمعیت کشورمان را بر عهده دارد.	مرکز آمار	۲	رودهایی که از کوه‌های زاگرس سرچشمه می‌گیرند، به این حوضه آبریز می‌ریزند.	حوضه آبریز خلیج فارس و دریای عمان	۳	این سازمان حفاظت از خاکهای کشورمان را به عهده دارد.	جنگل‌ها، مراتع و آبخیزداری	۴	از منابع مهم تأمین آب شهرنشینان و روستاییان است.	رودها	۴۳
ردیف	توضیح	پاسخ															
۱	این سازمان مسئولیت سرشماری جمعیت کشورمان را بر عهده دارد.	مرکز آمار															
۲	رودهایی که از کوه‌های زاگرس سرچشمه می‌گیرند، به این حوضه آبریز می‌ریزند.	حوضه آبریز خلیج فارس و دریای عمان															
۳	این سازمان حفاظت از خاکهای کشورمان را به عهده دارد.	جنگل‌ها، مراتع و آبخیزداری															
۴	از منابع مهم تأمین آب شهرنشینان و روستاییان است.	رودها															
۱/۵	حدس بزن (هر مورد ۰/۵ نمره) الف) شهر سوخته ب) معبد چغازنبیل ج) تمدن جیرفت	چ ۴۴															


وصل کردنی: شماره مربوط به ردیف‌های الف، ب، ج و د را در ستون شماره‌ی مربوطه بنویسید. (هر مورد ۰/۲۵)

۲

ردیف	نام حکومت	شماره مربوطه	شماره	موسس
الف	مادها	۲	۱	کورش
ب	هخامنشیان	۱	۲	دی‌اکو
ج	اشکانیان	۴	۳	اردشیر بابکان
د	ساسانیان	۳	۴	آرشک

ردیف	نام حکومت	شماره مرتبه	شماره	پایتخت
الف	مادها	۴	۱	گور(فیروزآباد)
ب	هخامنشیان	۳	۲	صدرروازه(دامغان)
ج	اشکانیان	۲	۳	بابل
د	ساسانیان	۱	۴	هگمتانه(همدان)

چیستان(هر مورد ۰/۵ نمره)



به ترتیب از بالا به پایین:
دریاچه ارومیه،
دریاچه قم،
باتلاق گاوخونی و
دریاچه بختگان

سوالات تشریحی(۴۸ تا ۵۱)

۰/۵

طبقه عامه و طبقه بزرگان

۰/۵

هجرت پیامبر اکرم(ص) از مکه به مدینه

۱

۱. تاریخ ایران قبل از اسلام که به آن دوره ایران باستان می‌گویند.
۲. تاریخ ایران دوره اسلامی که با سقوط حکومت ساسانیان و ورود اسلام به ایران آغاز شد.

۱	۱- زبان ایرانیان باستان در زمان هخامنشیان (پارسی باستان) ۲- خط ایرانیان باستان در زمان هخامنشیان (خط میخی) ۳- زبان ایرانیان باستان در دوره اشکانیان و ساسانیان (پارسی میانه یا پهلوی) ۴- خط ایرانیان باستان در دوره اشکانیان و ساسانیان (خط پهلوی)	۵۱
۲۰ نمره	پیروز و سربلند باشید! «سیدهدادی کریمی»	۵۱ سؤال

