


نام و نام خانوادگی:		نام دبیر:	
نام درس: مطالعات اجتماعی		تاریخ امتحان:	
کلاس: ششم		وقت امتحان: یک ساعت	
ردیف		تعداد صفحه: ۲	
<p>مدیریت آموزش و ترویج عالی یک اداره کل آموزش و ترویج استان کرمان مدیریت مطالعات اجتماعی ناحیه یک کرمان</p> <p>دانش آموزان عزیز و سغولانم! زیر با دقت پاسخ دهید.</p>			
الف) پاسخ صحیح را مشخص کنید.			
۱	تأثیر متقابل رفتار و اخلاق دوستان بر یکدیگر به کدام یک از موضوعات زیر بستگی دارد؟	<input type="checkbox"/> حفظ و نگهداری دوستی	<input type="checkbox"/> حد و مرز دوستی
۲	نیاز به دوستی <input type="checkbox"/> بیت "مکن دوستی با دروغ آزمای همان نیز با مرد ناپاک رای" بر کدام ویژگی دوستی از دیدگاه امام علی (ع) تأکید بیشتری دارد؟	<input type="checkbox"/> صدقیت در دوستی	<input type="checkbox"/> خیرخواهی در دوستی
۳	تپه کود، بارش باران، هجوم ملخ ها به مزارع کدام به ترتیب مربوط به کدام یک از عوامل موثر در کشاورزی می باشد؟	<input type="checkbox"/> طبیعی، طبیعی، طبیعی	<input type="checkbox"/> انسانی، انسانی، طبیعی
۴	تفاوت مهم انرژی هسته ای با سایر انرژی ها در چیست؟	<input type="checkbox"/> معادن آن تمام شدنی نیست	<input type="checkbox"/> انرژی زیادی تولید می کند
۵	جنگ تحمیری حدود چند سال بعد از آزادی خرمشهر به پایان رسید؟	<input type="checkbox"/> چهار سال	<input type="checkbox"/> پنج سال
۶	ب) در جای خالی کلمات مناسب بنویسید.	<input type="checkbox"/> شش سال	<input type="checkbox"/> هفت سال
۷	فراغت زمانی است که فرصت پیدا می کنیم تا به خودمان بپردازیم.		
۸	نقشه ای که بر روی آن مکان های تاریخی و دیدنی مناطق مختلف نشان داده می شود نقشه ی نام دارد.		
۹	با گسترش دانش و فنون به تدریج سرزمین های اسلامی به جهان تبدیل شدند.		
۱۰	ج) صحیح و غلط بودن عبارات زیر را مشخص کنید.		
۱۱	روی برجسب انرژی هر چه فلش از رنگ سبز دور تر باشد آن وسیله بهتر است. (ص / غ)		
۱۲	در کشور ما تولید برق آبی بسیار کمتر از برق حرارتی است. (ص / غ)		
۱۳	مسجد شیخ لطف الله گلستانه های بسیار زیبایی دارد. (ص / غ)		
۱۴	دانشگاه جندی شاپور در زمان صفویان تأسیس شد. (ص / غ)		
۱۴	د) به سوالات زیر پاسخ کوتاه دهید.		
۱۵	"خرمشهر را خدا آزاد کرد" این سخن از کیست؟		
۱۶	مهمترین علت پیشرفت علمی مسلمانان چیست؟		
۱۷	به تولید کالا به یک شکل و به تعداد زیاد چه می گویند؟		
۱۷	در کدام مرحله ی تصمیم گیری انتخاب هایی که نتایج بدی دارند را کنار می گذاریم و آن انتخاب هایی را که نتیجه ی مثبت دارند را برمی گزینیم؟		
۱۸	فرض کنید مردم یک منطقه از شما بخواسته اند به آن ها بگویند چه کارهایی انجام بدهند تا هزینه ی برق آن ها کمتر شود؟ چه توصیه هایی می کنید؟ (۲ مورد)		
۱۹	نمودار علت و معلول را تکمیل کنید.		

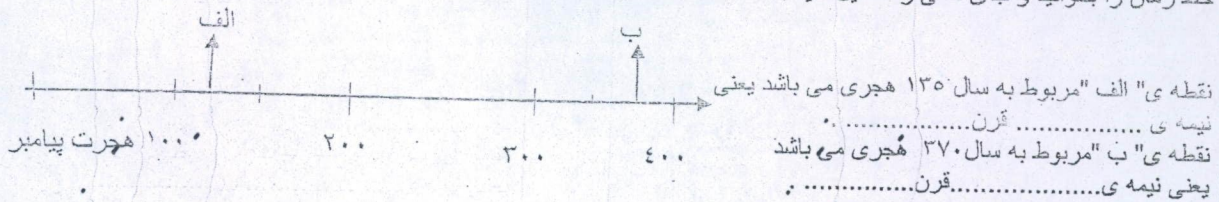
۲۰ آقای محمدی می خواهد در تمام طول سال گوجه فرنگی و خیار بکارد و بفروشد اما منطقه ی زندگی او زمستان های بسیار سردی دارد برای اینکه به هدف خود برسد چه باید بکند؟ مزایای این روش را برای او شرح دهید .

۲۱ برای تعیین خطوط مرزی بین کشور ها چه مراحل باید طی شود؟



۲۲ منابع گاز ایران در جنوب کشورمان را نام ببرید.

۲۳ خط زمان را بخوانید و جای خالی را تکمیل کنید .

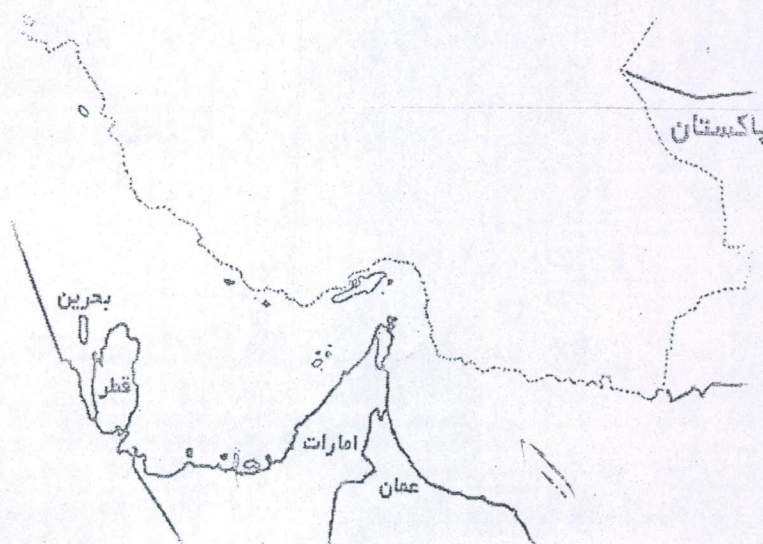


۲۴ از علل حمله ی نظامی عراق به ایران دو مورد را بنویسید .

۲۵ کلمه ی استعمار به چه معناست و به چه کشور هایی استعمار گر گفته می شود؟

۲۶ دریای خزر ایران را به کدام کشور ها مربوط می کند؟

۲۷ روی نقشه موارد زیر را مشخص کنید.
۱. نام تنگه: ۲. نام بزرگترین جزیره: ۳. انبار نفت جهان کدام است آن را نشان دهید: ۴. نام دریا:



○ رتبه ی نهایی: خیلی خوب ○ خوب ○ قابل قبول ○ نیاز به تلاش و آموزش بیشتر