



مدت زمان آزمون:	ساعت شروع آزمون:	نوع آزمون: مداد کاغذی نام آزمون: ریاضی	 دبستان غیردولتی ره آورد حویق سال تحصیلی ۱۴۰۰-۱۳۹۹
تاریخ آزمون: ۱۴۰۰/۲/۲۵ پایه: دوم		نام و نام خانوادگی آموزگار: سیده معصومه شکیبا	نام و نام خانوادگی:

آموختن علم بر هر انسانی واجب است. همانا خداوند علم آموزان را دوست دارد. حضرت رسول اکرم (ص)

۱_ آمار حیوانات موجود در یک مزرعه در جدول زیر آمده است. ابتدا تعداد تقریبی حیوانات را بدست آورده و جدول را کامل کنید. برای هر ۱۰ حیوان یک ○ و نمودار را کامل کنید.

نام حیوان	گوسفند	بز	قوچ	اسب
تعداد حیوان	۴۶	۲۱	۳۸	۱۷
تعداد تقریبی				



۲_ هر کدام از اعداد زیر را به خانه ی مربوط به خود وصل کنید.

<div>زوج</div> <div>۱۷۰</div> <div>۴۲</div> <div>۳۸</div> <div>۲۷۱</div> <div>۲۰</div> <div>۱۴۳</div>	<div>فرد</div> <div>۲۴۶</div> <div>۳۳</div>
---	---

۳_ کامل کنید.

الف (۵ سانتی متر یعنی میلی متر .

ب (۲ سانتی متر و ۵ میلی متر میلی متر است .


ج (۹۳ میلی متر برابر است با سانتی متر و میلی متر .

۴_ جمع و تفریق های زیر را با روش های خواسته شده پاسخ دهید .

تکنیکی (انتقالی)

فرایندی (گسترده)

۵ _ محورهای زیر چه جمع و تفریقی را نشان می دهند؟



۶ _ الگوهای زیر را ادامه دهید؟

..... و و و ۱۶ _ ۱۲ _ ۹ _ ۷ _ ۶

..... و و و ۴۲ _ ۳۶

۷ _ حساب کنید؟

الف) ۱۱ سکه یک ریالی و ۹ سکه ده ریالی و ۵ سکه صد ریالی می شود؟

ب) ۹ ده تایی و ۵ صدتایی و ۱۸ یکی برابر است با

۸ _ علامت مناسب بگذارید؟

۹ _ مساله زیر را حل کنید؟

نگین ۳۶۵ ریال پول داشت . او ۲ تراش خرید که قیمت هر تراش ۱۲۰ ریال بود . چند ریال برای او باقی مانده است ؟


۱۰ _ عددی که هر شکل نشان می دهد در جدول قرار دهید و سپس با رقم و حروف بنویسید ؟

به عدد :

به حروف :

انتظارات	خیلی خوب	خوب	متوسط	نیاز به تلاش بیشتر
اعداد تقریبی را می نویسد و نمودار را تکمیل می کند .				
اعداد زوج و فرد را می شناسد .				
متر و میلی متر را درک کرده است .				
جمع و تفریق فرآیندی و تکنیکی را به درستی انجام می دهد .				
با توجه به محور جمع و تفریق را انجام می دهد .				
الگوها را به درستی بدست انجام می دهد .				
مقدار سکه ها را به درستی بدست می آورد .				
علامت () را به درستی می گذارد .				
مساله را درک کرده و به درستی پاسخ می دهد .				
با توجه به شکل اعداد سه رقمی را در جدول ارزش مکانی می نویسد .				

بازخورد آموزگار :



انتظارات	خیلی خوب	خوب	متوسط	ضعیف

بازخورد آموزگار:

