


۶) شکل‌ها را با کشیدن خط دسته بندی کن و در جاهای خالی عدد مناسب بنویس.




..... دسته ی چهار تایی و  
..... تا یکی

۷) جواب عبارت را با کشیدن شکل پیدا کن.

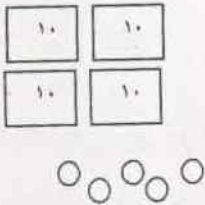
$$7 - 3 =$$

۸) الگو را پیدا کرده و روی جدول نشان بده و رنگ کن.

۱	۲	۳	۴	۵	۶	۷	۸
۹	۱۰	۱۱	۱۲	۱۳	۱۴	۱۵	۱۶



۹) در جای خالی عدد مناسب بنویس.

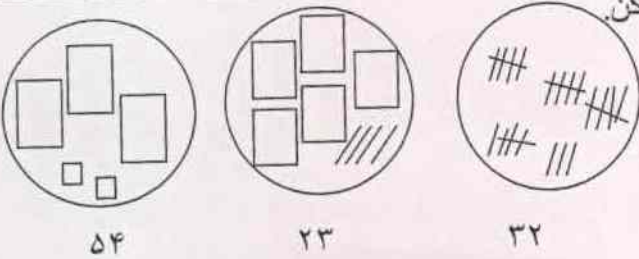


یکی ده تایی

عدد با رقم .....

عدد با حروف .....

۱۰) عددها را با خط کش به شکل مناسب وصل کن.



۱۱) با کمک محور جمع یا تفریق کن.

