
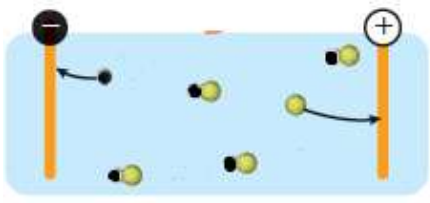
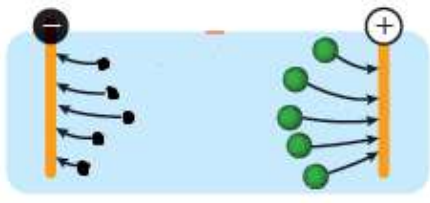
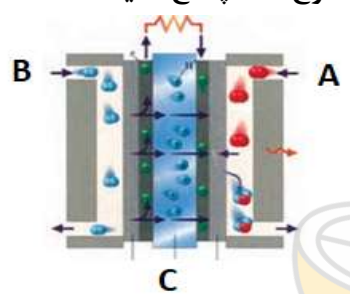
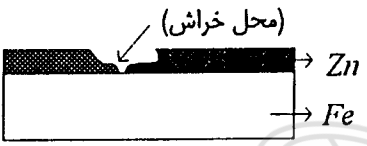
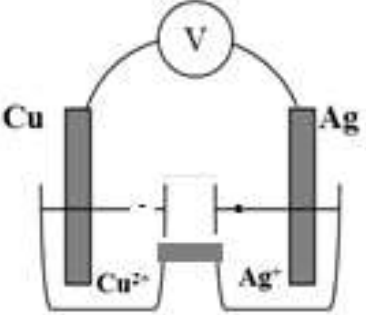


شماره دفتر نمره:	بسمه تعالی مدیریت آموزش و پرورش ناحیه یک اردبیل دبیرستان پسرانه سما نیمسال اول سال تحصیلی ۱۳۹۹-۱۴۰۰	ماده درسی: شیمی (۳)	
مدت امتحان : ۹۰ دقیقه		پایه: دوازدهم تجربی	
تاریخ امتحان : ۱۳۹۹/۱۰/۸		تعداد صفحات: ۳	
ساعت شروع: ۱۴/۳۰		تعداد سوالات: ۱۳	
		نام و نام خانوادگی:	

۲/۵	<p>۶ شکل زیر مربوط به دو نوع اسید با غلظت یکسان است که در آب یونش یافته‌اند. با توجه به آن به پرسش‌ها پاسخ دهید.</p> <div style="display: flex; justify-content: space-around; align-items: center;">   </div> <p style="text-align: center;">a b</p> <p>(آ) کدام محلول یک اسید قوی می‌باشد؟ چرا؟</p> <p>(ب) اگر در هر دو محلول یک لامپ قرار دهیم در کدام یک نور چراغ کمتر خواهد بود؟ چرا؟</p> <p>(پ) اگر در هر دو محلول یک قطعه نوار منیزیم یکسان قرار دهیم سرعت کدام محلول بیشتر خواهد بود؟</p> <p>(ت) اگر ثابت یونش اسید (a)، K_{a1} و ثابت یونش اسید (b)، K_{a2} باشد، ثابت یونش این دو اسید را با بیان علت مقایسه کنید.</p>
۱/۷۵	<p>۷ با توجه به شکل مقابل که تصویری از سلول سوختی هیدروژن می‌باشد به پرسش‌های مطرح شده پاسخ دهید:</p> <div style="text-align: center;">  </div> <p>(آ) این سلول ساختاری همانند سلول‌های گالوانی دارند یا الکترولیتی؟ چرا؟</p> <p>(ب) A و B مربوط به کدام گونه‌ها و C مربوط به کدام جزء سلول می‌باشد؟</p> <p>(پ) نیم واکنش‌های آندی و کاتدی را بنویسید.</p>
۱/۵	<p>۸ اگر در محلول استیک اسید (CH_3COOH) با غلظت ۰/۱ مول بر لیتر غلظت مولی یون H_3O^+ برابر $10^{-3} \times 1/35 \text{ mol/L}$ باشد:</p> <p>(آ) معادله یونش استیک اسید را بنویسید؟</p> <p>(ب) درصد یونش آن را حساب کنید.</p>
۱/۵	<p>۹ اگر در محلولی از هیدروفلوئوریک اسید (HF) با غلظت مولی $4 \times 10^{-3} \text{ mol/L}$ درصد یونش ۲/۵٪ باشد:</p> <p>(آ) غلظت یون H_3O^+ را بدست آورید.</p> <p>(ب) pH محلول را حساب کنید.</p>
۱/۵	<p>۱۰ در نمونه‌ای از عصاره گوجه فرنگی غلظت یون هیدرونیوم 4×10^{-3} برابر غلظت یون هیدروکسید است. pH این نمونه را حساب کنید. ($\log 2 = 0/3$)</p>

شماره دفتر نمره:	بسمه تعالی	ماده درسی: شیمی (۳)	
مدت امتحان: ۹۰ دقیقه	مدیریت آموزش و پرورش ناحیه یک اردبیل	پایه: دوازدهم تجربی	
تاریخ امتحان: ۱۳۹۹/۱۰/۸	دبیرستان پسرانه سما	تعداد صفحات: ۳	
ساعت شروع: ۱۴/۳۰	نیمسال اول سال تحصیلی ۱۴۰۰-۱۳۹۹	تعداد سؤالات: ۱۳	
			نام و نام خانوادگی:

۲	<p>با توجه به نیم واکنش های داده شده به پرسش های مطرح شده پاسخ دهید.</p> <p> $\text{Fe}^{2+}(\text{aq}) + 2\text{e}^{-} \rightarrow \text{Fe}(\text{s}) \quad E^{\circ} = -0.44 \text{ V}$ $\text{Mg}^{2+}(\text{aq}) + 2\text{e}^{-} \rightarrow \text{Mg}(\text{s}) \quad E^{\circ} = -2.37 \text{ V}$ $\text{Zn}^{2+}(\text{aq}) + 2\text{e}^{-} \rightarrow \text{Zn}(\text{s}) \quad E^{\circ} = -0.76 \text{ V}$ $\text{Cu}^{2+}(\text{aq}) + 2\text{e}^{-} \rightarrow \text{Cu}(\text{s}) \quad E^{\circ} = +0.34 \text{ V}$ </p> <p>(آ) قدرت اکسندگی کاتیون های Fe^{2+}، Mg^{2+} و Zn^{2+} را با هم مقایسه کنید.</p> <p>(ب) محلول آهن (II) سولفات را در کدام ظرف می توان نگهداری کرد؟ چرا؟</p> <p>(۱) ظرفی از جنس مس</p> <p>(۲) ظرفی از جنس روی</p> <p>(پ) آیا با قرار دادن نوار منیزیم در محلول روی سولفات، شاهد انجام واکنش خواهیم بود؟ چرا؟</p> <p>(ت) قرار دادن کدام تیغه فلزی در کدام محلول، داغ ترین محلول را ایجاد خواهد کرد؟</p>	۱۱
۱/۲۵	<p>با توجه به شکل زیر به پرسش های مطرح شده پاسخ دهید: ($E^{\circ}_{\text{Zn}^{2+}/\text{Zn}} = -0.76 \text{ V}$، $E^{\circ}_{\text{Fe}^{2+}/\text{Fe}} = -0.44 \text{ V}$)</p> <p>(آ) به این نوع آهن چه می گویند؟ (حلبی یا گالوانیزه)</p> <p>(ب) بر اثر خراش در سطح این نوع آهن کدام فلز خورده می شود؟ چرا؟</p> <p>(پ) نیم واکنش های اکسایش و کاهش را بنویسید.</p> 	۱۲
۲/۲۵	<p>با توجه به شکل داده شده و E° الکترودها به پرسش های مطرح شده پاسخ دهید:</p> <p> $E^{\circ}(\text{Cu}^{2+}/\text{Cu}) = +0.34 \text{ V}$ $E^{\circ}(\text{Ag}^{+}/\text{Ag}) = +0.8 \text{ V}$ </p> <p>(آ) آند، کاتد و جهت حرکت الکترون ها را روی شکل مشخص کنید.</p> <p>(ب) کدام الکتروده قطب مثبت سلول را تشکیل می دهد؟</p> <p>(پ) ضمن انجام واکنش جرم تیغه فلزی در آند چه تغییری می کند؟</p> <p>(ت) واکنش کلی سلول گالوانی حاصل را نوشته و emf آن را حساب کنید.</p> 	۱۳
۲۰	جمع نمرات	
موفق باشید - صیقلی		