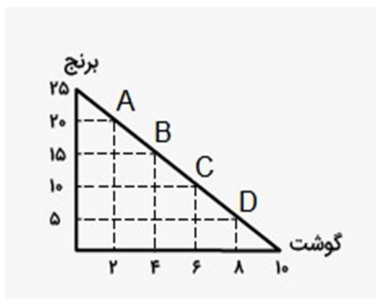


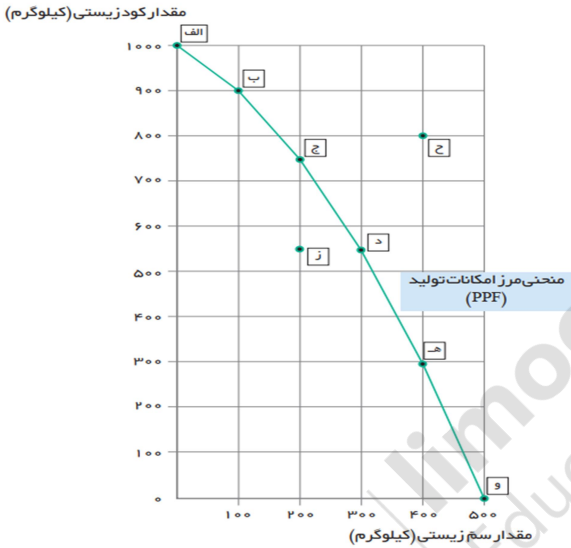
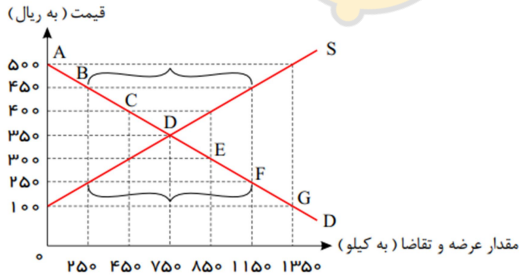
باسمه تعالی
آموزش و پرورش منطقه ده

نام: دبیرستان دوره دوم هوشمند دخترانه دکتر ترابی (غیر دولتی) شماره صندلی:
نام خانوادگی: امتحانات نوبت اول سال ۱۴۰۰-۱۳۹۹
نام درس: اقتصاد پایه: دهم انسانی ساعت شروع: صبح مدت امتحان: ۴۰ دقیقه تاریخ امتحان: ۹۹/۱۰/۱۷

گروه ۱

ردیف	سوالات	بارم												
(۱)	<p>به سوالات زیر پاسخ کوتاه بدهید.</p> <p>۱. نحوه اداره تعاونیها بر چه اساسی است؟</p> <p>۲. ابداعات و اختراعات چه تاثیری بر میزان تولید و عرضه دارند؟</p> <p>۳. وضع مالیات بر سوختههای آلاینده مانند بنزین و گازوئیل با چه هدفی صورت میگیرد؟</p> <p>۴. دو مورد از کالاهای راهبردی کدامند؟</p>	۲												
(۲)	<p>با توجه به اطلاعات زیر نتیجه عملکرد سالیانه یک بنگاه اقتصادی با ۲۰ کارمند و تولید سالیانه ۲۵۰۰ دستگاه هریک به ارزش ۴۰۰/۰۰۰ ریال را محاسبه کنید.</p> <table border="1" style="width: 100%; border-collapse: collapse;"> <tr> <td style="width: 10%; text-align: center;">۱</td> <td style="width: 60%;">اجاره ماهیانه کارگاه تولیدی</td> <td style="width: 30%; text-align: right;">۳/۰۰۰/۰۰۰</td> </tr> <tr> <td style="text-align: center;">۲</td> <td>حقوق متوسط ماهیانه هر کارمند</td> <td style="text-align: right;">۲/۰۰۰/۰۰۰</td> </tr> <tr> <td style="text-align: center;">۳</td> <td>خرید مواد اولیه سالیانه</td> <td style="text-align: right;">۱۸/۰۰۰/۰۰۰</td> </tr> <tr> <td style="text-align: center;">۴</td> <td>هزینه استهلاک سالیانه ماشین آلات تولیدی</td> <td style="text-align: right;">$\frac{1}{3}$ خرید مواد اولیه سالیانه</td> </tr> </table>	۱	اجاره ماهیانه کارگاه تولیدی	۳/۰۰۰/۰۰۰	۲	حقوق متوسط ماهیانه هر کارمند	۲/۰۰۰/۰۰۰	۳	خرید مواد اولیه سالیانه	۱۸/۰۰۰/۰۰۰	۴	هزینه استهلاک سالیانه ماشین آلات تولیدی	$\frac{1}{3}$ خرید مواد اولیه سالیانه	۱
۱	اجاره ماهیانه کارگاه تولیدی	۳/۰۰۰/۰۰۰												
۲	حقوق متوسط ماهیانه هر کارمند	۲/۰۰۰/۰۰۰												
۳	خرید مواد اولیه سالیانه	۱۸/۰۰۰/۰۰۰												
۴	هزینه استهلاک سالیانه ماشین آلات تولیدی	$\frac{1}{3}$ خرید مواد اولیه سالیانه												
(۷)	<p>فردی ۱۰٪ از سهام یک شرکت را خریداری کرده است. اگر دارایی کل شرکت، ۵۰۰/۰۰۰ سهم باشد و ارزش هر سهم ۲۰۰۰ تومان باشد:</p> <p>الف) این فرد چه تعدادی از سهام شرکت را خریداری کرده است؟</p> <p>ب) میزان سرمایه گذاری این فرد چقدر است؟</p>	۱												
(۱۲)	<p>آقای احمدی کل درآمد ماهیانه خود را به خرید برنج و گوشت اختصاص داده است. اگر قید بودجه آقای احمدی مطابق با نمودار زیر باشد، و قیمت هر واحد گوشت ۱۰۰/۰۰۰ تومان و هر کیلو برنج ۴۰/۰۰۰ تومان باشد: الف) درآمد ماهیانه آقای احمدی چقدر است؟</p> <p>ب) حرکت از نقطه C به D چه توجیه عقلانی دارد و هزینه فرصت وی چقدر است؟</p>	۱												



۱	<p>خانم محمدی برای در اختیار داشتن قلم نوری در تدریس مجازی خود اقدام به خرید تبلت کرده است. وی سه نوع تبلت با قابلیت‌های متفاوت را مدنظر قرار داد. اگر انتخاب او تبلت B باشد، با انجام محاسبات لازم بیان کنید آیا انتخاب مناسبی صورت گرفته است؟</p> <table border="1" data-bbox="240 222 1271 411"> <thead> <tr> <th>تبلت</th> <th>ارزش ذهنی</th> <th>ارزش منافع واقعی برای شخص</th> <th>قیمت محصول (هزینه)</th> <th>منفعت خالص</th> </tr> </thead> <tbody> <tr> <td>A</td> <td>بسیار عالی</td> <td>۱۵ میلیون تومان</td> <td>۱۵ میلیون تومان</td> <td>.....</td> </tr> <tr> <td>B</td> <td>عالی</td> <td>۱۸ میلیون تومان</td> <td>۲۰ میلیون تومان</td> <td>.....</td> </tr> <tr> <td>C</td> <td>خوب</td> <td>۲۰ میلیون تومان</td> <td>۱۷ میلیون تومان</td> <td>.....</td> </tr> </tbody> </table>	تبلت	ارزش ذهنی	ارزش منافع واقعی برای شخص	قیمت محصول (هزینه)	منفعت خالص	A	بسیار عالی	۱۵ میلیون تومان	۱۵ میلیون تومان	B	عالی	۱۸ میلیون تومان	۲۰ میلیون تومان	C	خوب	۲۰ میلیون تومان	۱۷ میلیون تومان	۱۳
تبلت	ارزش ذهنی	ارزش منافع واقعی برای شخص	قیمت محصول (هزینه)	منفعت خالص																		
A	بسیار عالی	۱۵ میلیون تومان	۱۵ میلیون تومان																		
B	عالی	۱۸ میلیون تومان	۲۰ میلیون تومان																		
C	خوب	۲۰ میلیون تومان	۱۷ میلیون تومان																		
۱	<p>با توجه به شکل به سوالات پاسخ دهید. الف) میزان تولید کالا در نقطه د چقدر است؟ ب) کدام نقطه غیر قابل دستیابی است؟ ج) جابجا شدن از نقطه د به نقطه ب چه هزینه فرصتی دارد؟</p> 	۱۵																				
۰/۷۵	<p>با توجه به نمودار مقابل: الف) قیمت تعادلی چه میزانی است؟ ب) در قیمت ۳۰۰ ریال بازار با چه وضعیتی مواجه است و چگونه به تعادل میرسد؟</p> 	۱۶																				
۰/۵	دولت چه هدفی از وضع قوانین و مقررات اقتصادی دارد؟	۱۷																				
۰/۷۵	مالیات بر مصرف چه نوع مالیاتی است و پرداخت آن از نظر قانونی بر عهده چه کسانی است؟	۱۸																				
۱	<p>اگر کشاورزان هر واحد پنبه تولیدی خود را به قیمت ۵۰۰۰ تومان به کارگاههای ریسندگی بفروشند و این کارگاهها پس از تبدیل آن به نخ به قیمت ۱۲۰۰۰ تومان به کارگاههای پارچه بافی بفروشند و در آنجا به پارچه تبدیل شود و به قیمت ۲۰/۰۰۰ تومان به تولیدکنندگان پوشاک فروخته شود و نهایتاً پوشاک تولید شده به مبلغ ۳۵۰۰۰ تومان به دست مصرف کنندگان برسد؛ میزان مالیات بر ارزش افزوده (VAT) با نرخ ۱۰٪ را محاسبه کنید.</p>	۱۹																				

۰/۵	دو مورد از علل روی آوردن کشورها به تجارت بین الملل کدام است؟	(۲۰)
۰/۵	با توجه به اطلاعات ارائه شده، کدام کشورها دارای مزیت مطلق یا نسبی هستند؟ ۱. بر اساس مقادیر یکسانی از منابع تولید، کشور الف میتواند ۳ تن پسته و کشور ب میتواند ۵ تن پسته تولید کند. ۲. کشور الف برای تولید ۱۰۰ واحد قهوه از تولید ۲۰ واحد موز صرفنظر میکند در حالیکه کشور ب برای تولید ۱۰۰ واحد قهوه از تولید ۵۰ واحد موز صرفنظر میکند.	(۲۱)
۱۱	موفق باشید	

