






محل مهر آموزشگاه	وقت آزمون: ۹۰ دقیقه	باسمه تعالی اداره کل آموزش و پرورش استان لرستان مدیریت آموزش و پرورش شهرستان دورود نوبت دوم خرداد ماه ۱۴۰۰	سوالات درس: منطق
	ساعت برگزاری: ۹ صبح		نام و نام خانوادگی:
	تاریخ امتحان: ۱۴۰۰/۰۲/۲۹		نام آموزشگاه: امام رضا علیه السلام
تعداد سؤال: ۱۰ سؤال	تعداد سؤال: ۱۰ سؤال		رشته تحصیلی: ادبیات و علوم انسانی

بارم	عنوان سؤال	ردیف
۱	عبارت های صحیح و غلط را مشخص کنید: ۱- عکس مستوی موجب کلیه، موجب جزئی نمی شود. <input type="checkbox"/> ۲- به جملات با معنایی که درباره چیزی خبر می دهند قضیه می گویند. <input type="checkbox"/> ۳- سور «هر» یا «هیچ» نشانه جزئی بودن قضیه است. <input type="checkbox"/> ۴- شکل اول قیاس اقترانی دارای شش ضرب نتیجه دهنده است. <input type="checkbox"/>	الف ف
۲	گزینه های مناسب را با هم جور کنید: (یک گزینه اضافی است) الف- علمی که در پی جلوگیری از خطای اندیشه است.  حد وسط ب- قضیه ای که ثبوت یا نفی چیزی حکم می کند.  قضیه شخصی ج- اگر موضوع قضیه، مفهومی جزئی باشد.  قضیه حملی د- جزء مشترک میان دو قضیه.  قضیه شرطی ه-  منطق	ب
۲	جاهای خالی را کامل کنید: ۱- مفهوم ..... مفهومی است که مصداق آن کاملاً مشخص است. ۲- در دسته بندی مفاهیم از مفهوم ..... آغاز می کنیم و به مفهومی ..... می رسیم. ۳- تعریف لغوی، تعریف ..... نام دارد. جملات زیر را با کلمات صادق و کاذب کامل کنید: ۴- دو قضیه متناقض هم زمان ..... نیستند و هم زمان ..... نیستند. ۵- دو قضیه متضاد هم زمان ..... نیستند؛ اما هم زمان ..... باشند.	ج
۱/۵	به پرسش های زیر پاسخ کوتاه دهید: ۱- استقرای تعمیمی را تعریف کنید. ۲- «مغالطه تمثیل ناروا» از کدام یک از اقسام استقرا ناشی می شود؟ ۳- استقرای تمثیلی در ادبیات همان تشبیه است.	د
۴	به سؤالات زیر پاسخ کامل دهید: ۱- چگونه می توان به تناقض یک قضیه دست یافت؟	ه

	<p>۲- شرایط معتبر بودن قیاس را بنویسید. (دو مورد)</p> <p>۳- قیاس اقترانی حملی را تعریف کنید و برای آن یک نمونه مثال بنویسید.</p> <p>۴- منظور از «مغالطه تعمیم شتاب زده» چیست؟</p>	
۱	<p>و نوع دلالت لفظ بر معنا را در عبارات زیر تعیین کنید.</p> <p>الف) فلانی شیر است ( )</p> <p>ب) کتابم را گم کردم ( )</p>	
۲	<p>ز تعیین کنید میان هر یک از مفهوم کلی ذیل کدام یک از نسبت های چهارگانه برقرار است؟</p> <p>الف) کالا- گران</p> <p>ب) بانک - بانک ملی</p> <p>ج) گل - ماهی</p> <p>د) انسان - ناطق</p>	
۱/۵	<p>ح اشکال تعریف های زیر را تعیین کنید:</p> <p>الف) انسان: حیوان راست قامت. ( )</p> <p>ب) پرنده: حیوانی که پرواز می کند. ( )</p> <p>ج) خورشید: سکه طلایی آسمان. ( )</p>	
۱	<p>ط از میان موارد زیر، قضایای حملی و شرطی را مشخص کنید.</p> <p>الف- اگر باران بیارد، زمین سرسبز می شود. ( )</p> <p>ب- همه دانش آموزان موفق می شوند. ( )</p>	
۲/۵	<p>ی نوع تقابل را در جملات زیر مشخص کنید.</p> <p>الف- هیچ مسلمانی کافر نیست. هیچ کافری مسلمان نیست. ( )</p> <p>ب- هیچ مسافری در راه نیست. بعضی مسافران در راه نیستند. ( )</p> <p>ج- بعضی پرنندگان مهاجر نیستند. بعضی پرنندگان مهاجر هستند. ( )</p> <p>د- همه کارمندان مالیات می پردازند. بعضی کارمندان مالیات نمی پردازند. ( )</p> <p>ه- هیچ مسافری در راه نیست. همه مسافران در راه هستند. ( )</p>	
۱/۵	<p>ک مشخص کنید قیاس های زیر:</p> <p>اولاً: شکل چندم است؟</p> <p>ثانیاً: نتیجه می دهد یا عقیم است؟</p> <p>ثالثاً: در صورت عقیم بودن، دلیل آن چیست؟</p> <p>الف) هر حیوه ای فلز است. هر حیوه ای هادی الکتریسته است.</p> <p>ب) هر الف ب است. هر ج ب است.</p> <p>ج) بعضی کتابها مفید نیستند هر کتابی خواندنی است</p>	

«تندرستی و شادگامی ره توشه عمرتان»