
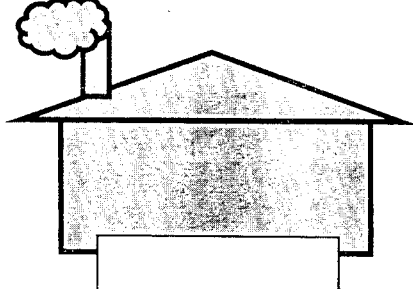
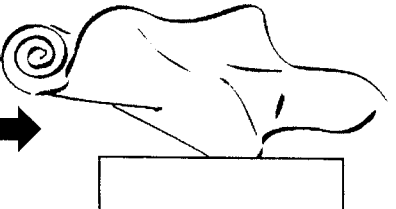


وزارت آموزش و پرورش  
 اداره کل آموزش و پرورش استان خوزستان  
 مدیریت آموزش و پرورش شهرستان بهبهان  
 بخش دبستانی و دبستان غیردولتی  
 برتران دانش  
 دوره اول و دوم  
 کد: ۹۶۰۳۲۸۹۴


نام و نام خانوادگی: ..... آزمون مطالعات اجتماعی پنجم

۱	<p>اولین کسانی که با کندن قنات از آب های زیر زمینی استفاده کردند چه کسانی بودند؟</p> <p>الف) ایرانیان <input type="checkbox"/> ب) مصریان <input type="checkbox"/> ج) عرب های صحرا نشین <input type="checkbox"/> د) چینی ها <input type="checkbox"/></p>
۲	<p>کوچک ترین کشور همسایه ی ایران کدام است؟</p> <p>الف) افغانستان <input type="checkbox"/> ب) ارمنستان <input type="checkbox"/> ج) عراق <input type="checkbox"/> د) پاکستان <input type="checkbox"/></p>
۳	<p>نمایندگان مجلس شورای اسلامی هر چند سال یک بار انتخاب می شوند؟</p> <p>الف) هر چهار سال یک بار <input type="checkbox"/> ب) هر پنج سال یک بار <input type="checkbox"/></p> <p>ج) دائمی هستند <input type="checkbox"/> د) هر دو سال یک بار <input type="checkbox"/></p>
۴	<p>کدام مورد از وظایف دولت نیست؟</p> <p>الف) اجرای قوانین <input type="checkbox"/> ب) تأمین وسایل رفاه و آسایش مردم <input type="checkbox"/></p> <p>ج) دفاع از کشور در برابر حمله ی دشمن <input type="checkbox"/> د) رسیدگی به شکایت ها و اختلافات مردم <input type="checkbox"/></p>
۵	<p>عبارت های زیر را کامل کنید.</p> <p>مهم ترین راه ارتباط انسان ها با یکدیگر ..... است .</p> <p>محدوده ای که هیچ کس نباید بدون اجازه و رضایت شما وارد آن شود..... نام دارد.</p> <p>یکی از دلایل افزایش جمعیت در یک ناحیه ، ..... مردم از نواحی دیگر به آن جاست.</p> <p>به وسایلی که مردم و کالا ها را جابه جا می کنند ..... می گویند.</p>
۶	<p>هر پاسخ را به عبارت مربوط به آن وصل کن .</p> <p>خرید و فروش در داخل کشور یا با کشورهای دیگر را می گویند.</p> <p>راه هایی که مسیر رفت و برگشت با مانع هایی از هم جدا شده اند.</p> <p>تغییراتی که کارگران در کارخانه ها روی مواد اولیه می دهند.</p> <p>مواد و کالاهایی که ما به کشور های دیگر می فروشیم .</p>
۷	<p>کلمه های مقابل را در محل مناسب بنویس . ( کارخانه - کالا - ماده ی اولیه )</p> <div style="display: flex; align-items: center; justify-content: center;">  <span style="margin: 0 20px;">→</span>  <span style="margin: 0 20px;">→</span>  </div>

- آزاد راه
- صنعت
- واردات
- صادرات
- بازرگانی


۸

جاهای خالی را پر کن .





انواع ترس

ترس از آمپول و دکتر



۹

نام سازمان های زیر و وظیفه ی آن را بنویس .





نام سازمان : .....

نام سازمان : .....

وظیفه:

۱۰

دو وسیله ی نقلیه ی زیر را باهم مقایسه کن و در باره ی خوبی ها و عیب های هریک بنویس .



۱۱

تفاوت صنایع مادر و صنایع مصرفی را بنویس با ذکر مثال.

موفق باشید .