

نام :
بسمه تعالی

نام خانوادگی :
وزارت آموزش و پرورش
شاهد

نام آموزشگاه : پسرانه

اداره کل آموزش و پرورش

ماده درسی : ریاضی

استان آذربایجان غربی

کلاس : چهارم 1

معاونت

اداره کل و مدیریت آموزش و پرورش خوی

نوبت امتحانی :

تاریخ امتحان

مدت امتحان :

دقیقه :

تعداد سوال :

تعداد صفحه : 2

صفحه : 1

باتوجه به عدمقابل به سوالات پاسخ دهید.

7043579

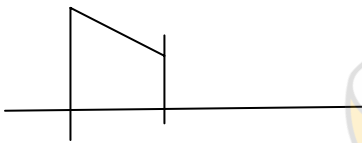
الف) عدد رابه حروف بنویسید .

ب) رقم صدگان هزار آن چند است ؟
ج) کدام رقم بیشترین ارزش مکانی را دارد ؟

جدول زیر را کامل کنید .

رقم	حروف
64002078	
	پنج میلیون و نهصد هزار و صد و بیست و یک

در شکل زیر چند پاره خط و چند نیم خط وجود دارد ؟



پاره خط :

نیم خط :

چرانی توانیم پاره خط را ادامه دهیم ولی خط راست را می توانیم ادامه دهیم ؟

باتوجه به عبارت زیر مسئله ای بسازید و سپس آن را حل کنید ؟

$$175) =$$

6 مجموع پول سه نفر 6500 تومان است . اگر اولی 3000 تومان و دومی 1800 تومان کمتر از اولی داشته باشد . پول نفر سوم چند تومان است ؟

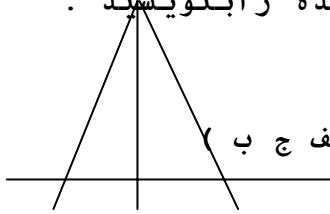
7 در جای خالی کلمه مناسب بنویسید .

الف) زاویه باز از زاویه تند است .
ب) برای تشخیص زاویه راست از استفاده می کنیم .

ج) نیم خطی که زاویه رابه دو قسمت مساوی تقسیم می کند

..... می گویند .

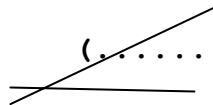
8 به شکل زیر نگاه کنید و نوع زاویه های خواسته شده را بنویسید .



(الف ر م)

(الف ش د) (الف ج ب)

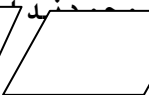
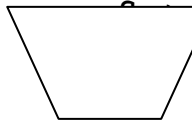

9 زاویه مقابل رابه سه روش نام ببرید .



زاویه (.....) زاویه (.....)

زاویه (.....)

10 شکلی رسم کنید که دوزاویه راست و یک زاویه تند و یک زاویه باز داشته باشد .



12 مریم 3570 تومان پول دارد . پول برادرش 83 تومان کم تر از پول مریم است . برادرمریم چندتومان پول دارد ؟

13 عددی بنویسید که یکان آن با یکان هزار و دهگان آن با دهگان هزار و صدگان آن با صدگان هزار برابر باشد ؟



علامت ($< = >$) بگذارید .

75025



درداخ

750250



830102



803012

8090

هشتصد هزارونه

موفق باشید : قاسمی