

مدت زمان آزمون: ۴۵ دقیقه	ساعت شروع آزمون:	نوع آزمون: مداد کاغذی نام آزمون: ریاضی	دبستان غیردولتی ره آورد حویق سال تحصیلی ۱۴۰۰-۱۳۹۹
تاریخ آزمون: ۱۴۰۰/۲/۲۵ پایه: سوم		نام و نام خانوادگی آموزگار: فاطمه هاشمی	نام و نام خانوادگی:

آموختن علم بر هر انسانی واجب است. همانا خداوند علم آموزان را دوست دارد. حضرت رسول اکرم (ص)

۱_ صحیح و غلط بودن عبارات را مشخص کنید.

- الف) در مستطیل ضلع های رو به رو مساوی و موازی هستند. ص غ
- ب) در شمارش ۶ تا ۶ تا عدد بعد از ۳۶، ۴۸ است. ص غ
- ج) بهترین وسیله برای رسم دایره پرگار است. ص غ
- د) مساحت مربع یک ضلع ضربدر خودش است. ص غ

۲_ ۶۳۲۸ گرم یعنی کیلوگرم و گرم

۳_ خط های تقارن شکل های زیر را بکشید.

۴_ روی محور مشخص کنید.

واحد بعد از عدد ۲

۵_ با توجه به اینکه زهرا هر شکلات را ۱۵۰ تومان می خرد و ۲۰۰ تومان می فروشد. جدول زیر را کامل کرده و به

سوالات پاسخ درست دهید.

تعداد شکلات	۱	۲	۳	۴	۵
سود شکلات	۵۰	۱۰۰			

زهرا چند شکلات باید بفروشد تا با سودش بتواند یک شکلات دیگر بخرد؟


۶_ کسر های زیر را روی یک شکل نشان دهید.

۷_ ضرب های زیر را به روش های خواسته شده نشان دهید .

به روش محور :

به روش رسم شکل :


۸_ محیط شکل های داده شده را حساب کنید .



۹_ مقدار برداشت یک کشاورز از مزرعه اش به شرح زیر است ،

آن را در نمودار ستونی و دایره ای قرار دهید .

گندم	جو	برنج
۱۰	۱۰	۴۰



۱۰_ حاصل عبارت های زیر را بدست آورید .


نیاز به تلاش بیشتر	متوسط	خوب	خیلی خوب	انتظارات
				با شکل های هندسی آشناست .
				تقارن را به خوبی تشخیص می دهد .
				تبدیل کیلوگرم به گرم را فرا گرفته است .
				کسر در شکل و محور را می داند .
				به شکل های مختلف ضرب را بدست می آورد .
				با محیط اشکال آشنایی دارد .
				با نمودار ها آشناست و تسلط کامل دارد .
				ضرب را به خوبی فرا گرفته است .

باز خورد آموزگار :



limoonad
Education For All





ضعیف	متوسط	خوب	خیلی خوب	انتظارات

بازخورد آموزگار:

