

۱- بر سر یک سفره مهمانی ۴ دیس قرار دارد. در هر دیس ۷ تکه مرغ و ۳ تکه گوشت قرار دارد و در یکی از دیس‌ها گوشت تمام شده است. روی هم چند تکه مرغ و گوشت در دیس‌ها قرار دارد؟ (با رسم شکل)

۲- تمام عددهای ۴ رقمی را بنویسید که رقم یکان و صدگان آن‌ها ۰ و رقم دهگان آن‌ها ۲ تا از هزارگانش بیشتر باشد.

۳- الگوهای زیر را کامل کنید.

۹۹۶۳

۹۷۶۳

۹۵۶۳

.....

سه هزار و پنجاه - سه هزار و صد - سه هزار و صد و پنجاه - - -

۴- درست یا نادرست بودن عبارات زیر را مشخص کنید.

- الف) عدد دوهزار و یازده برابر ۲۰۱۱ است. درست نادرست
- ب) هزارگان عدد ۵۰۴۸ از دهگان عدد ۳۱۵۶ یکی بیشتر است. درست نادرست
- ج) ۱۰۰۰ کامیون در یک کوچه جا می‌شوند. درست نادرست

۵- جمع و تفریق زیر را به واحد خواسته شده تبدیل کنید.

ریال ریال ریال
 $۴۵۸۰ + ۲۶۲۰ = ۷۲۰۰$

..... به تومان

تومان تومان تومان
 $۵۸۳ + ۱۰۲ = ۶۸۵$

..... به ریال



پایه سوم

۶- در جاهای خالی علامت مناسب $>$ $=$ $<$ بگذارید.

$$7153 \square 7531$$

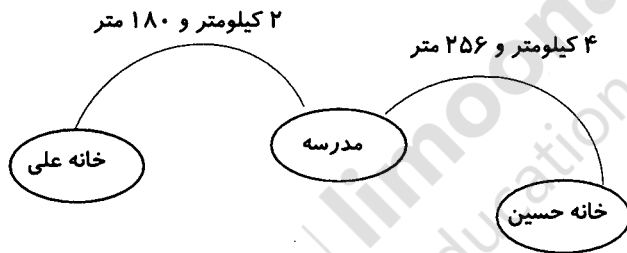
$$7078 \square 708$$

$$5111 \square \text{پنج هزار و یازده}$$


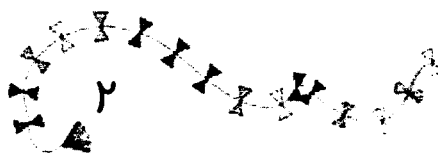
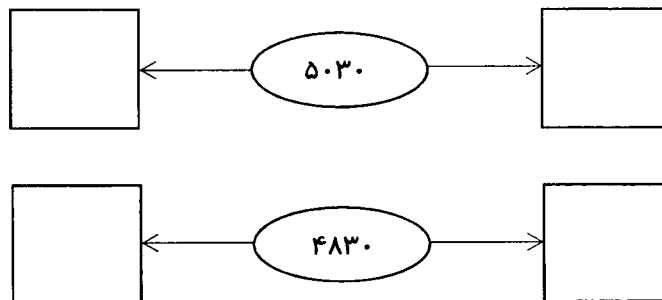
$$4002 \square \text{چهار هزار و دو}$$

۷- اگر ۳ رینگت کشور مالزی برابر ۲۰۰۰ تومان ارزش داشته باشد آیا با ۷۵۰۰ تومان می‌شود تویی به قیمت ۱۲ رینگت را خرید؟ چرا؟

۸- با توجه به شکل زیر، فاصله‌ی خانه‌ی علی تا خانه حسین چند متر است؟



۹- هر عدد بین کدام هزارتایی‌ها قرار دارد؟



پایه سوم