



بارقم و حروف بنویس

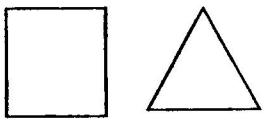
۷۲	۹۱۶	۸۰۴	۳۰۹
هفتاد و دو	نه صد و شانزده	هشت صد و چهار	سه صد و نُه



(۲) برای عدد ۲۴۳ شکل بکش و جای خالی را پر کن.

صدتایی	دهتایی	یکتایی
۲	۴	۳

بارقم: ۲۴۳



(۳) تفاوت ها و شباهت های دو شکل را بنویس

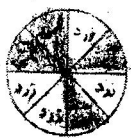
تفاوت: ...
شباهت: ...

(۴) اگر هر آدمک نماد ۵۰ نفر باشد، این شهر چند نفر جمعیت دارد؟ ۲۵۰



$$\begin{array}{r} 46 \\ + 21 \\ \hline 67 \end{array}$$

(۵) جواب جمع زیر را به صورت تقریبی بنویسید.



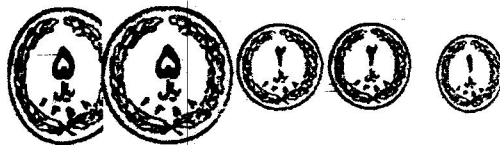
(۶) احتمال ایستادن عقربه روی کدام رنگ بیش تر است؟ چرا؟

$$\begin{array}{r} 87 \\ + 56 \\ \hline 143 \end{array}$$

(۷) علی ۸۷ شاخه گل خرید و برادرش ۵۶ شاخه گل خرید

آن ها روی هم چند شاخه گل خریدند؟

(۸) چند ریال است؟



۵۰ ریال

(۹) رضا ۷۸ میز ساخت او ۴۶ میز را فروخت.

حالا رضا چند میز دارد؟

$$\begin{array}{r} 78 \\ - 46 \\ \hline 32 \end{array}$$

۱۰) جمع و تفریق های زیر را انجام دهید.

$20 + 4 + 5 + 5 + 30 + 10 = \dots$ ✓

روش گسترده
 $80 - 30 = 50$


$$\begin{array}{r} 34 \\ + 23 \\ \hline 57 \end{array}$$
 ✓

روش تکنیکی


$$\begin{array}{r} 51 \\ 645 \\ - 293 \\ \hline 352 \end{array}$$
 ✓

$$\begin{array}{r} 745 \\ + 236 \\ \hline 981 \end{array}$$
 ✓

۱۱) با توجه به شکل در جای خالی عدد مناسب بنویس:



۵... چهارتایی شود. ✓



۱۲) ساعت زیر را بخوان و بنویس.

ساعت دقیقه است
 دقیقه مانده به ساعت
 ✓

۱۳) در جای خالی عدد مناسب بنویس:

۶۸۱ برابر است با ... یکی و ... دهتایی و ... صدتایی

یک عدد سه رقمی بنویس که رقم های آن مثل هم باشد.

۹-۹-۹ ✓

..... قسمت از پرچم ایران قرمز است.

هر ۱۵ دقیقه قسمت از قسمت ساعت است.

ردیف	انتظارات معلم	خیلی خوب	خوب	قابل قبول	نیاز به تلاش
۱	اعداد را با حروف و رقم می نویسد.	✓			
۲	مسائل را به درستی حل می کند.	✓			
۳	مفهوم کسر و احنمال را فهمیده است.	✓			
۴	جمع و تفریق را به هر دو صورت انجام می دهد.	✓			
۵	تفاوت و شباهت اشکال هندسی را تشخیص می دهد.	✓			

نظر نهایی آموزگار:

آرد
۲-۲۸