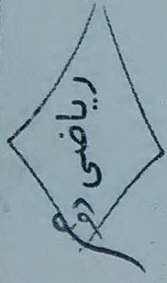






مداد ریوی



۱- شکل رو به رو، مربوط به کدام یک از چوب خط های زیر است؟



(۱)



(۲)

۲- با دو رقم ۳ و ۰ چند عدد دو رقمی می توان نوشت؟ (بدون رقم های تکراری)

۴ (۴)

۱ (۳)

۲ (۲)

۳ (۱)

۳- ارشیا ۳۴ تپله دارد. ۲۱ تا از تپله ها سیاه و بقیه سفید هستند. چند تا از تپله های ارشیا به رنگ

سفید است؟

۵۵ (۴)

۱۳ (۳)

۱۴ (۲)

۱۲ (۱)

۴- پنجمین عدد در الگوی رو به رو، چه عددی است؟

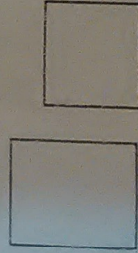
۸، ۱۶،

۱۶ (۴)

۲۴ (۳)

۳۲ (۲)

۴۰ (۱)



۵- کدام گزینه، تفاوت این دو شکل را نشان می دهد؟

(۲) هر دو شکل ۴ ضلع دارند

(۱) هر دو شکل ۴ گوشه دارند

(۴) همه ی موارد صحیح است

(۳) شکل ضلع های هر دو شکل با هم فرق می کند

۶- نیمه ی دیگر شکل رو به رو، به طوری که اگر از روی خط تا کنیم، شکل های دو طرف روی

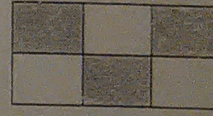
هم بیفتند، کدام است؟



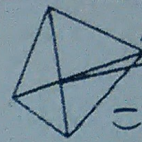

(۴)



(۳)



(۲)



(۱)



رایج دوم ابتدایی

مدرسه پویا




۵۴	۱۲	۴۵	۳۳
۲۸	۳۹	۲۶	۲۲

برای جمع زیر یک مسئله بنویس و حل کن.

$$\begin{array}{r} ۳۶ \\ +۵۷ \\ \hline \end{array}$$



زهرا ۸ سال دارد او ۱ سال دیگر چندساله می شود؟



اگر الان ساعت ۹ باشد، ۱۰ دقیقه دیگر ساعت چند می شود؟

www.moalem98.blogfa.com

کلاس دوم یک ۳۴ دانش آموز و کلاس دوم دو ۳۲ دانش آموز دارد. دانش آموزان این دو کلاس چند نفر هستند؟ راه حل را بنویس.

در یک اتوبوس ۱۷ نفر نشسته بودند. در ایستگاه اول ۲۲ نفر دیگر سوار شدند. این اتوبوس چندسافر دارد؟ (راه حل را هم بنویس)

برای شکل رو برو جمع مناسب بنویس

ولی محترم لطفاً نقاط ضعف فرزندتان را نیز مخصوص تمرینات انجام شده بنویسید.

باتشکر لیموناد